

Wirtschaftswissenschaftliche Bücherei für Schule und Praxis

Begründet von Handelsschul-Direktor Dipl.-Hdl. Friedrich Hutkap †

Verfasser:

Roland Ott

Studium der Mathematik an der Universität Tübingen

Kurt Bohner

Lehrauftrag Mathematik am BS Wangen

Studium der Mathematik und Physik an der Universität Konstanz

Ronald Deusch

Lehrauftrag Mathematik am BSZ Bietigheim-Bissingen

Studium der Mathematik an der Universität Tübingen

Günther Thun

Studiendirektor in Oldenburg

Studium der Mathematik an der Universität Tübingen

Stefan Rosner

Lehrauftrag Mathematik an der Kaufmännischen Schule in Schwäbisch Hall

Studium der Mathematik an der Universität Mannheim

Das Werk und seine Teile sind urheberrechtlich geschützt. Jede Nutzung in anderen als den gesetzlich zugelassenen Fällen bedarf der vorherigen schriftlichen Einwilligung des Verlages. Hinweis zu § 52 a UrhG: Weder das Werk noch seine Teile dürfen ohne eine solche Einwilligung eingescannt und in ein Netzwerk eingestellt werden. Dies gilt auch für Intranets von Schulen und sonstigen Bildungseinrichtungen.

* * * * *

1. Auflage 2017

© 2017 by Merkur Verlag Rinteln

Gesamtherstellung:

Merkur Verlag Rinteln Hutkap GmbH & Co. KG, 31735 Rinteln

E-Mail: info@merkur-verlag.de

lehrer-service@merkur-verlag.de

Internet: www.merkur-verlag.de

ISBN 978-3-8120-2386-3

Bildquellen: Umschlag: Hintergrundbild: Kirill Kedrinski - fotolia.com, Rahmen links: Mike Kiev - Fotolia.com, Rahmen Mitte: Andres Rodriguez - Fotolia.com

Einleitung

Das Arbeitsheft dient zur Aufbereitung, Wiederholung und Festigung des im Schülerbuch behandelten Lernstoffs. Es soll parallel zum Schülerbuch verwendet werden.

Die begleitende Unterstützung durch die Lehrkraft ist gewünscht und sehr sinnvoll.

Das Arbeitsheft enthält ergänzende Aufgaben zur Wiederholung und ermöglicht eine Lernkontrolle in Eigenverantwortung. Das im Vergleich zum Schülerbuch veränderte Format und die Form der Darstellung wirken motivierend auf Schüler/innen.

Einige Aufgaben beinhalten fächerübergreifende Aspekte in Handlungssituationen.

Das Arbeitsheft hilft, das Erlernte zu festigen und damit eine gute Grundlage für die schriftliche Prüfung zu schaffen.

Optionale Lerngebiete (1)

.....

4 Berechnen Sie ohne Hilfsmittel.

$1 - \frac{1}{7}$	$= \frac{7}{7} - \frac{1}{7} = \frac{6}{7}$	$-2 \cdot (-\frac{2}{9}) \cdot (-\frac{2}{5})$	$= \frac{4}{9} \cdot (-\frac{2}{5}) = -\frac{8}{45}$
$-\frac{2}{5} + \frac{6}{5}$	$=$	$\frac{1}{9} \cdot (-7)$	$=$
$-\frac{24}{5} - 5$	$=$	$-\frac{2}{5} \cdot \frac{5}{6}$	$=$
$\frac{2}{9} - 1 - \frac{5}{9}$	$=$	$-\frac{5+3}{4} \cdot (-4)$	$=$
$-\frac{(5+3)}{6} - \frac{4}{6}$	$=$	$\frac{9}{2} \cdot (-\frac{4}{9})$	$=$
$\frac{9-2}{-7}$	$=$	$(\frac{2}{3})^2 - \frac{4}{3} \cdot \frac{2}{3}$	$=$
$\frac{3}{2} - \frac{4}{5} - \frac{6}{4} - \frac{4}{5}$	$=$	$5 - \frac{7}{3} - \frac{1+3}{6}$	$=$
$-\frac{5+7}{12} + \frac{5-7}{12}$	$=$	$-\frac{1}{a} \cdot \frac{3}{5} + \frac{1}{a}$	$=$

5 Formulieren Sie einen Term für den Text.

Summe aus dem fünffachen einer Zahl und 13

Subtrahiere von 46 das Doppelte einer Zahl

Gesamtkosten aus: Fixkosten 20 €, Kosten pro Stück 0,75 €

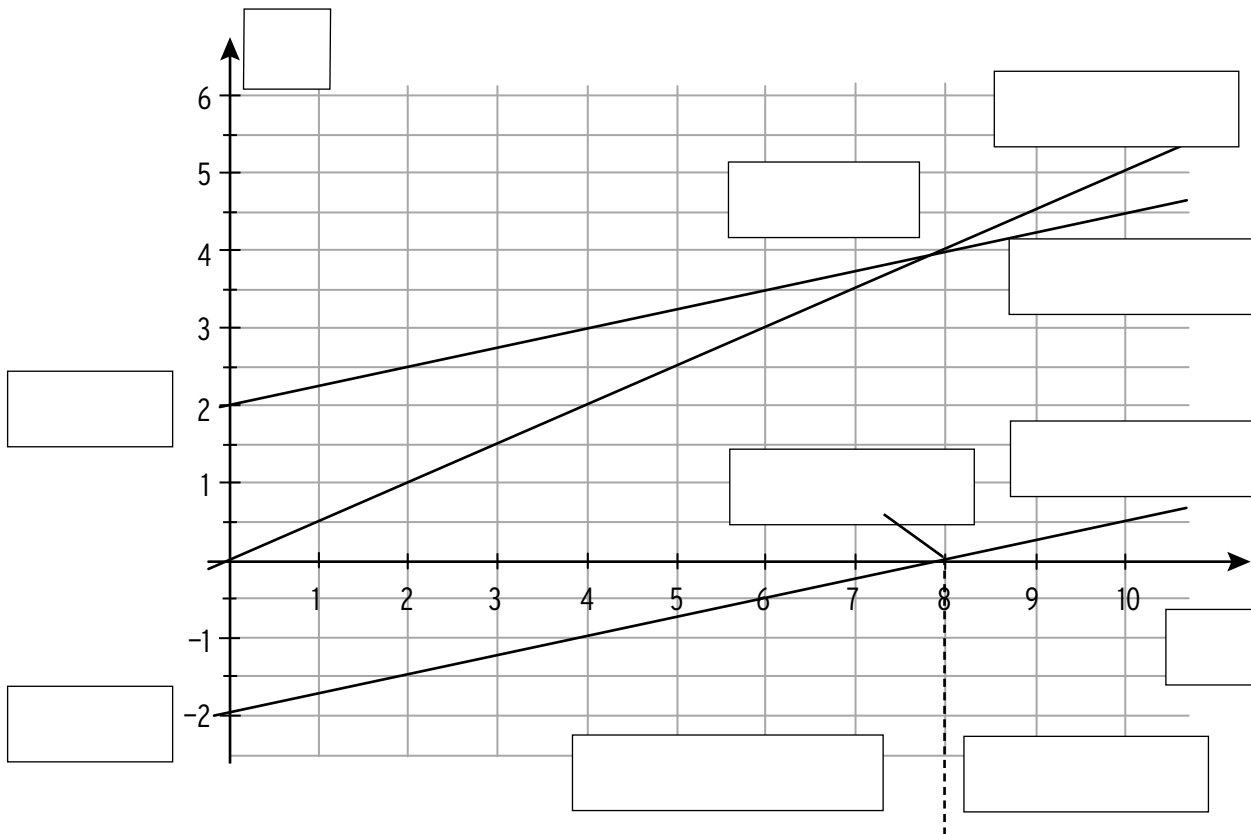
6 Wenden Sie eine binomische Formel an.

$(x+1)^2$	$= x^2 + 2x + 1$	$x^2 - 12x + 36$	$= (x - 6)^2$
$x^2 + 8x + 16$	$=$	$(t - 5)^2$	$=$
$(x - 3)^2$	$=$	$(x - a)^2$	$=$
$4(x - 6y)(x + 6y)$	$=$	$(2x - 1)^2$	$=$
$x^2 - x + \frac{1}{4}$	$=$	$x^2 + 20x + 100$	$=$

7 Ergänzen Sie den Term.

$(x + \underline{\quad})^2 = x^2 + \underline{\quad} \cdot 5x \underline{\quad}$	$(x + 5)^2 = x^2 + 2 \cdot 5x + 25$
$\frac{5}{4}a - \frac{3}{4}b = \frac{1}{4} \cdot (\underline{\quad})$	$49 - 14a + a^2 = (\underline{\quad}) \cdot (\underline{\quad})$
$(x - \underline{\quad})^2 = x^2 - 4x \underline{\quad}$	$x^2 + 7x + 10 = (x \underline{\quad})(x \underline{\quad})$
$(x - \underline{\quad}y)(x + \underline{\quad}y) = x^2 \underline{\quad} 4y^2$	$2x^2 - \dots x = x(\underline{\quad} - 5)$

12 Beschriften Sie die Abbildung zum Thema Kostentheorie.



13 Füllen Sie den Lückentext aus.

Die Gesamtkostenfunktion K ist eine lineare Funktion, die zugehörige Kostengerade ist _____.

Die Gesamtkosten setzen sich zusammen aus den _____ und den _____ Kosten. Für den Term $K(x)$ gilt: _____

Der Schnittpunkt der Kostengeraden mit der y -Achse gibt die _____ an.

Die Erlösfunktion E ist eine lineare Funktion, der zugehörige Graph ist eine _____.

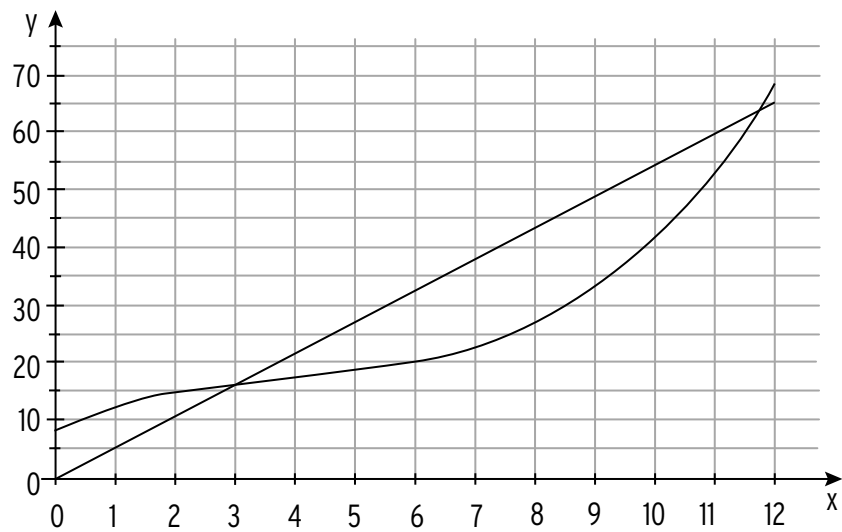
Die Schnittstelle der beiden Geraden gibt die _____ an.

Die Gewinnfunktion lässt sich wie folgt berechnen: $G(x) =$ _____.

Die Nullstelle der Gewinnfunktion entspricht der _____.

Verläuft die Gewinnkurve unterhalb der x -Achse, wird _____ erzielt.

10 Die Abbildung zeigt den Graph einer ertragsgesetzlichen Kostenfunktion und einer Erlösfunktion.



Beschreiben Sie den Verlauf der beiden Graphen, indem Sie den Lückentext mit folgenden Begriffen sinnvoll ergänzen:

steigen, steigend, monoton, degressiv, progressiv, Wendepunkt, linksgekrümmt, Rechtskrümmung, zu, geringer, geringsten, maximal, Fixkosten, Gewinnzone, Kapazitätsgrenze, ökonomisch sinnvollen, Gewinnschwelle, größten, 3, 8

Der Graph der Gesamtkostenfunktion K mit $K(x) = \frac{1}{12}x^3 - x^2 + 5x + 8$ verläuft im

_____ Definitionsbereich $D_{ök} = [0; 12]$ _____,

d.h. mit zunehmender Produktionsmenge _____ die Gesamtkosten.

12 ist die _____. Der Graph beginnt in $(0 | 8)$. Dies entspricht den

_____ in Höhe von ____ GE. Bis zu einer Produktionsmenge von 4 ME steigt

der Graph _____ an. Es liegt eine _____ vor, d.h. die Gesamtkosten

nehmen _____, aber diese Zunahme wird _____.

Bei einer Produktion von genau 4 ME steigen die Gesamtkosten am _____, hier liegt ein _____

vor. Danach verlaufen die Gesamtkosten _____ steigend, die Gesamt-

kostenkurve ist _____.

Die Schnittstelle von Kostenkurve und Erlösgerade liegt bei _____ ME und wird als

_____ bezeichnet. Bei etwa 8 ME ist der Abstand der y-Werte von K und E

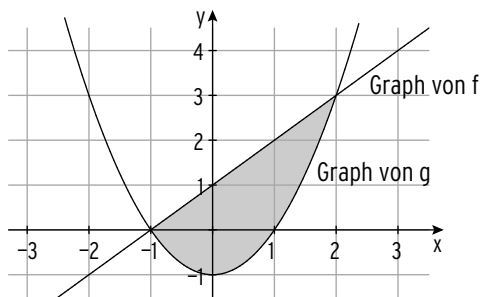
am _____, der Gewinn wird hier _____.

4 Füllen Sie die Tabelle aus.

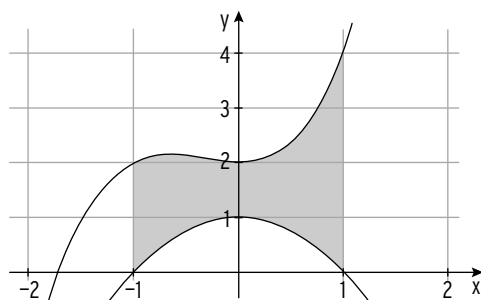
Graph von f	Das größere Flächenstück liegt der x-Achse	Integralwert	Inhalt der markierten Fläche
	<input type="checkbox"/> unterhalb <input type="checkbox"/> oberhalb	$\int_{-1}^{3,5} f(x)dx$ <input type="checkbox"/> 0 <input type="checkbox"/> - 2,21	<input type="checkbox"/> 2,96 <input type="checkbox"/> 2
	<input type="checkbox"/> unterhalb <input type="checkbox"/> oberhalb	$\int_{-2}^1 f(x)dx$ <input type="checkbox"/> $\frac{3}{2}$ <input type="checkbox"/> 1	<input type="checkbox"/> 3,5 <input type="checkbox"/> $\frac{31}{6}$

5 Berechnen Sie den Inhalt der markierten Fläche.

$K_f: f(x) = x + 1; K_g: g(x) = x^2 - 1$



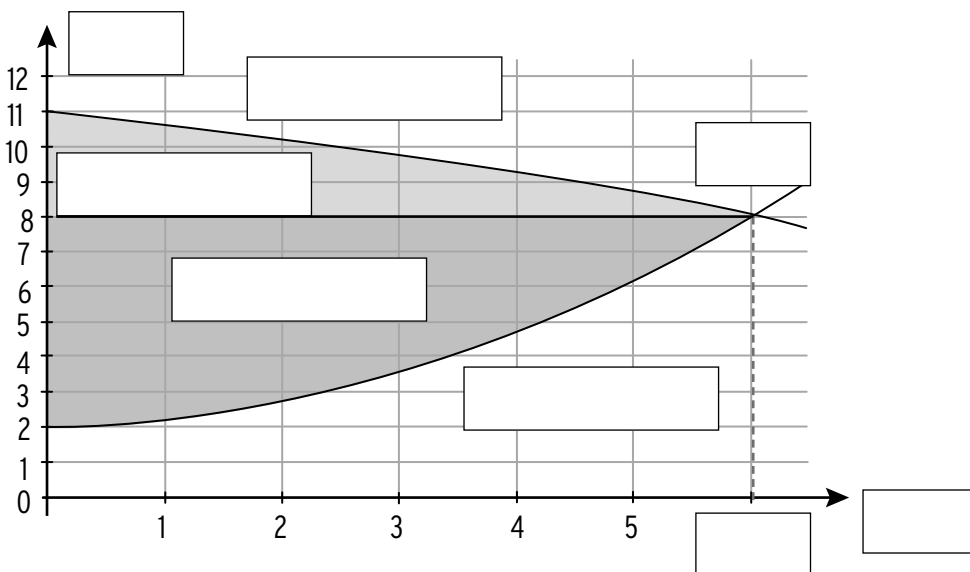
$K_f: f(x) = x^3 + x^2 + 2; K_g: g(x) = -x^2 + 1$



6 Die Graphen von f und g begrenzen eine Fläche vollständig.
Berechnen Sie den Inhalt der Fläche.

$f(x) = \frac{1}{8}x^3 - x^2 + 2x$ $g(x) = 2x$	Schnittstellen: $f(x) = g(x)$ $\frac{1}{8}x^3 - x^2 + 2x = 2x$ Nullform: $\frac{1}{8}x^3 - x^2 = 0$ Ausklammern: $x^2(\frac{1}{8}x - 1) = 0$ Schnittstellen: $x_{1 2} = 0; x_3 = 8$ Integration über $f(x) - g(x) = \frac{1}{8}x^3 - x^2$: $\int_0^8 (\frac{1}{8}x^3 - x^2) dx$ $= \left[\frac{1}{32}x^4 - \frac{1}{3}x^3 \right]_0^8 = -\frac{128}{3}; A = \frac{128}{3}$
$f(x) = -x^2(x - 4)$ $g(x) = 4x$	
$f(x) = \frac{1}{2}(x - 2)(x - 4)$ $g(x) = (x - 2)^2$	

7 Beschriften Sie die Abbildung zum Thema Angebot und Nachfrage.




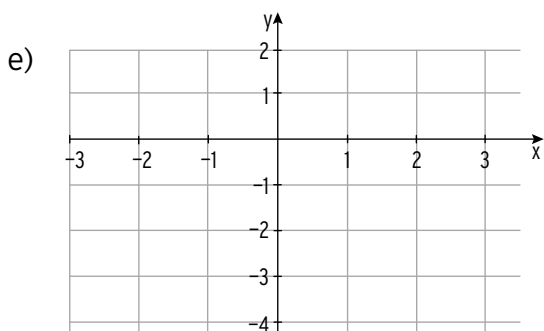
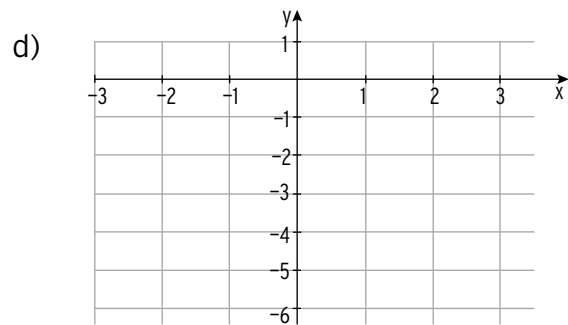


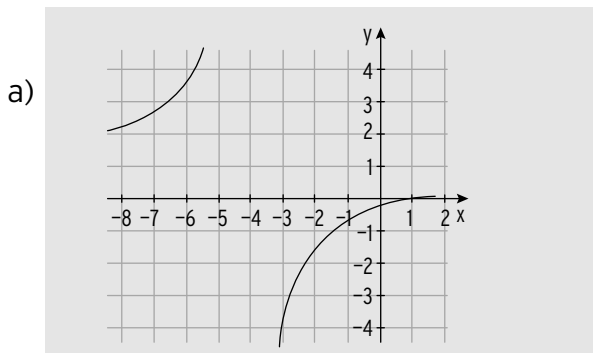
2 Gebrochen-rationale Funktionen

2.1 Schaubilder und Gleichungen

1 Füllen Sie die Tabelle aus. Skizzieren Sie den Graph der Funktion samt Asymptoten.

	Definitionslücke x_0	D_{\max}	Senkrechte Asymptote	waagrechte Asymptote	Schnittpunkt mit x-Achse y-Achse
a) $f(x) = \frac{x-1}{x+4}$	$x_0 = -4$	$\mathbb{R} \setminus \{-4\}$	$x = -4$	$y = 1$	$N(1 0); S_y(0 -1/4)$
b) $f(x) = \frac{5}{2x-4}$					
c) $f(x) = \frac{5x-2}{1-3x}$					
d) $f(x) = \frac{-5}{(x+1)^2}$					
e) $f(x) = \frac{2}{x^2} - 1$					
f) $f(x) = 1 - \frac{1}{x}$					

Abbildungen zu a) bis f)



3.2 Lineare Gleichungssysteme

Umformung und Lösung eines linearen Gleichungssystems

1 Lösen Sie das zugehörige lineare Gleichungssystem für x_1, x_2, x_3 .

a) $\left(\begin{array}{ccc|c} 2 & 1 & 5 & 13 \\ 4 & 3 & 2 & -9 \\ -3 & -4 & -3 & 6 \end{array} \right)$


b) $\left(\begin{array}{ccc|c} 1 & 1 & 1 & 0 \\ 2 & 1 & 1 & 5 \\ -3 & 0 & 3 & 3 \end{array} \right)$

$$\left(\begin{array}{ccc|c} 2 & 1 & 5 & 13 \\ 4 & 3 & 2 & -9 \\ -3 & -4 & -3 & 6 \end{array} \right) \begin{array}{l} \leftarrow \cdot (-2) \\ \leftarrow \cdot 2 \end{array}$$

$$\left(\begin{array}{ccc|c} 2 & 1 & 5 & 13 \\ 0 & 1 & -8 & -35 \\ 0 & -5 & 9 & 51 \end{array} \right) \leftarrow \cdot 5$$



$$\left(\begin{array}{ccc|c} 2 & 1 & 5 & 13 \\ 0 & 1 & -8 & -35 \\ 0 & 0 & -31 & -124 \end{array} \right)$$

$-31x_3 = -124 \Rightarrow x_3 = 4$
 Einsetzen in $x_2 - 8x_3 = -35$ ergibt:
 $x_2 - 32 = -35 \Rightarrow x_2 = -3$
 Einsetzen in $2x_1 + x_2 + 5x_3 = 13$ ergibt:
 $2x_1 - 3 + 5 \cdot 4 = 13 \Rightarrow x_1 = -2$
 Lösung: $(-2; -3; 4)$



c) $\left(\begin{array}{ccc|c} 1 & 2 & 3 & 5 \\ 4 & 6 & 1 & 3 \\ -1 & -1 & 4 & 5 \end{array} \right)$

d) $\left(\begin{array}{ccc|c} 1 & 1 & -1 & 1 \\ -2 & 2 & 1 & 1 \\ 3 & 4 & -5 & -5 \end{array} \right)$



- 3 Ein Betrieb fertigt in einem zweistufigen Produktionsprozess aus den Rohstoffen R_1 , R_2 und R_3 zunächst die Zwischenprodukte Z_1 , Z_2 und Z_3 und daraus die Endprodukte E_1 , E_2 und E_3 . Die Zwischenprodukt-Endprodukt-Matrix und die Rohstoff-Endprodukt-Matrix sind gegeben durch

$$B = \begin{pmatrix} 1 & 2 & 1 \\ 1 & 2 & 1 \\ 0 & 1 & 3 \end{pmatrix} \text{ und } C = \begin{pmatrix} 4 & 3 & 5 \\ 8 & 6 & 3 \\ 3 & 3 & 4 \end{pmatrix}.$$

Die Kosten in Geldeinheiten (GE) pro ME für die Rohstoffe, die Kosten für die Fertigung der Zwischenprodukte und die Kosten für die Produktion der Endprodukte sind durch folgende Vektoren gegeben:

$$\vec{k}_R = (1 \ 2,5 \ 4)$$

$$\vec{k}_Z = (10 \ 10 \ 12)$$

$$\vec{k}_E = (50 \ 80 \ 100).$$

- a) Berechnen Sie die variablen Herstellkosten je ME Endprodukt.

Dabei gilt: $\vec{k}_V = \vec{k}_R \cdot C + \vec{k}_Z \cdot B + \vec{k}_E$

Einsetzen ergibt: $\vec{k}_V = (1 \ 2,5 \ 4) \begin{pmatrix} 4 & 3 & 5 \\ 8 & 6 & 3 \\ 3 & 3 & 4 \end{pmatrix} + (10 \ 10 \ 12) \cdot \begin{pmatrix} 1 & 2 & 1 \\ 1 & 2 & 1 \\ 0 & 1 & 3 \end{pmatrix} + (50 \ 80 \ 100)$

$$\vec{k}_V = (36 \ 30 \ 28,5) + (20 \ 52 \ 56) + (50 \ 80 \ 100)$$

$$\vec{k}_V = (106 \ 162 \ 184,5)$$

- b) Für einen Auftrag über 20 ME von E_1 , 10 ME von E_2 und 30 ME von E_3 betragen die Fixkosten 1200 GE. Berechnen Sie die Gesamtkosten für diesen Auftrag.

$$K = \vec{k}_V \cdot \vec{x} + K_{\text{fix}} = (106 \ 162 \ 184,5) \cdot \begin{pmatrix} 20 \\ 10 \\ 30 \end{pmatrix} + 1200 = 10475$$

- c) Die Verkaufspreise je ME betragen für E_1 130 GE, für E_2 175 GE und für E_3 210 GE. Berechnen Sie den Gewinn für diesen Auftrag.

$$\text{Erlös } E = (130 \ 175 \ 210) \cdot \begin{pmatrix} 20 \\ 10 \\ 30 \end{pmatrix} = 10650$$

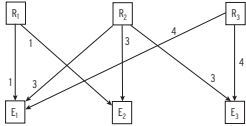
$$\text{Gewinn} = \text{Erlös} - \text{Kosten} = 10650 - 10475 = 175$$

Der Gewinn für diesen Auftrag beträgt 175 GE.

V Optionale Lerngebiete (2)

• • • • •

2 Ein Betrieb fertigt drei verschiedene Endprodukte E_1, E_2 und E_3 unter Verwendung von drei verschiedenen Rohstoffen R_1, R_2 und R_3 . Das folgende Verflechtungsdiagramm gibt an, wie viele Mengeneinheiten (ME) Rohstoffe für die Produktion von jeweils 1 ME Endprodukten benötigt werden.



Die gesamten Herstellkosten in Geldeinheiten (GE) pro ME der Endprodukte sind durch folgenden Vektor gegeben: $\vec{k}_V = (2 \ 2,5 \ 3)$.
Die Verkaufspreise in Geldeinheiten (GE) pro ME der Endprodukte sind durch folgenden Vektor gegeben: $\vec{p} = (3 \ 4 \ 6)$.
Der Betrieb erhält einen Auftrag über 100 ME E_1 , 80 ME E_2 und 50 ME E_3 .

a) Geben Sie die zugehörige Verflechtungsmatrix an.

$$V = \begin{pmatrix} 1 & 1 & 0 \\ 3 & 3 & 3 \\ 4 & 0 & 4 \end{pmatrix}$$

b) Berechnen Sie die Gesamtkosten für den Auftrag.

$$K = (2 \ 2,5 \ 3) \cdot \begin{pmatrix} 100 \\ 80 \\ 50 \end{pmatrix} = 550$$

c) Berechnen Sie den Gesamterlös für den Auftrag.

$$E = (3 \ 4 \ 6) \cdot \begin{pmatrix} 100 \\ 80 \\ 50 \end{pmatrix} = 920$$

d) Berechnen Sie den Gewinn für diesen Auftrag.

$$G = E - K = 920 - 550 = 370$$

e) Die Rohstoffkosten betragen 0,1 GE pro ME R_1 , 0,05 GE pro ME R_2 und 0,1 GE pro ME R_3 . Wie viel Rohstoffkosten stecken in einer ME der Endprodukte? Wie hoch sind die Rohstoffkosten für diesen Auftrag?

$$(0,1 \ 0,05 \ 0,1) \cdot \begin{pmatrix} 1 & 1 & 0 \\ 3 & 3 & 3 \\ 4 & 0 & 4 \end{pmatrix} = (0,65 \ 0,25 \ 0,55) \quad \text{Rohstoffkosten je ME Endprodukt}$$

$$(0,65 \ 0,25 \ 0,55) \cdot \begin{pmatrix} 100 \\ 80 \\ 50 \end{pmatrix} = 112,5 \quad \text{Gesamtrohstoffkosten für den Auftrag}$$

103

3 Ein Betrieb fertigt in einem zweistufigen Produktionsprozess aus den Rohstoffen R_1, R_2 und R_3 zunächst die Zwischenprodukte Z_1, Z_2 und Z_3 und daraus die Endprodukte E_1, E_2 und E_3 . Die Zwischenprodukt-Endprodukt-Matrix und die Rohstoff-Endprodukt-Matrix sind gegeben durch

$$B = \begin{pmatrix} 1 & 2 & 1 \\ 1 & 2 & 1 \\ 0 & 1 & 3 \end{pmatrix} \quad \text{und} \quad C = \begin{pmatrix} 4 & 3 & 5 \\ 8 & 6 & 3 \\ 3 & 3 & 4 \end{pmatrix}$$

Die Kosten in Geldeinheiten (GE) pro ME für die Rohstoffe, die Kosten für die Fertigung der Zwischenprodukte und die Kosten für die Produktion der Endprodukte sind durch folgende Vektoren gegeben:

$$\vec{k}_R = (1 \ 2,5 \ 4) \\ \vec{k}_Z = (10 \ 10 \ 12) \\ \vec{k}_E = (50 \ 80 \ 100)$$

a) Berechnen Sie die variablen Herstellkosten je ME Endprodukt.

$$\text{Dabei gilt: } \vec{k}_V = \vec{k}_R \cdot C + \vec{k}_Z \cdot B + \vec{k}_E$$

$$\text{Einsetzen ergibt: } \vec{k}_V = (1 \ 2,5 \ 4) \cdot \begin{pmatrix} 4 & 3 & 5 \\ 8 & 6 & 3 \\ 3 & 3 & 4 \end{pmatrix} + (10 \ 10 \ 12) \cdot \begin{pmatrix} 1 & 2 & 1 \\ 1 & 2 & 1 \\ 0 & 1 & 3 \end{pmatrix} + (50 \ 80 \ 100)$$

$$\vec{k}_V = (36 \ 30 \ 28,5) + (20 \ 52 \ 56) + (50 \ 80 \ 100)$$

$$\vec{k}_V = (106 \ 162 \ 184,5)$$

b) Für einen Auftrag über 20 ME von E_1 , 10 ME von E_2 und 30 ME von E_3 betragen die Fixkosten 1200 GE. Berechnen Sie die Gesamtkosten für diesen Auftrag.

$$K = \vec{k}_V \cdot \vec{x} + K_{\text{fix}} = (106 \ 162 \ 184,5) \cdot \begin{pmatrix} 20 \\ 10 \\ 30 \end{pmatrix} + 1200 = 10475$$

c) Die Verkaufspreise je ME betragen für E_1 130 GE, für E_2 175 GE und für E_3 210 GE. Berechnen Sie den Gewinn für diesen Auftrag.

$$\text{Erlös } E = (130 \ 175 \ 210) \cdot \begin{pmatrix} 20 \\ 10 \\ 30 \end{pmatrix} = 10650$$

$$\text{Gewinn} = \text{Erlös} - \text{Kosten} = 10650 - 10475 = 175$$

Der Gewinn für diesen Auftrag beträgt 175 GE.

104

4 Ein Betrieb fertigt in einem zweistufigen Produktionsprozess aus den Rohstoffen R_1, R_2 und R_3 zunächst die Zwischenprodukte Z_1, Z_2 und Z_3 und daraus die Endprodukte E_1, E_2 und E_3 . Die Rohstoff-Endprodukt-Matrix C und die Zwischenprodukt-Endprodukt-Matrix B sind gegeben durch

$$B = \begin{pmatrix} 2 & 1 & 1 \\ 1 & 2 & 1 \\ 0 & 1 & 0 \end{pmatrix} \quad \text{und} \quad C = \begin{pmatrix} 3 & 3 & 2 \\ 5 & 5 & 3 \\ 2 & 3 & 1 \end{pmatrix}$$

Die Kosten in Geldeinheiten (GE) pro ME für die Rohstoffe, die Kosten für die Fertigung der Zwischenprodukte und die Kosten für die Produktion der Endprodukte sind durch folgende Vektoren gegeben:

$$\vec{k}_R = (3 \ 4 \ 6); \\ \vec{k}_Z = (14 \ 16 \ 15); \\ \vec{k}_E = (65 \ 80 \ 75).$$

a) Berechnen Sie die variablen Herstellkosten je ME Endprodukt.

$$\text{Dabei gilt: } \vec{k}_V = \vec{k}_R \cdot C + \vec{k}_Z \cdot B + \vec{k}_E$$

$$\vec{k}_V = (3 \ 4 \ 6) \cdot \begin{pmatrix} 3 & 3 & 2 \\ 5 & 5 & 3 \\ 2 & 3 & 1 \end{pmatrix} + (14 \ 16 \ 15) \cdot \begin{pmatrix} 2 & 1 & 1 \\ 1 & 2 & 1 \\ 0 & 1 & 0 \end{pmatrix} + (65 \ 80 \ 75)$$

$$= (41 \ 47 \ 24) + (44 \ 61 \ 30) + (65 \ 80 \ 75) = (150 \ 188 \ 129)$$

Die variablen Herstellkosten je ME Endprodukt E_1 betragen 150 GE, für E_2 188 GE und für E_3 129 GE.

b) Für einen Auftrag über 10 ME von E_1 , 10 ME von E_2 und 20 ME von E_3 betragen die Fixkosten 700 GE. Berechnen Sie die Gesamtkosten für diesen Auftrag.

$$\text{Gesamtkosten für den Auftrag: } (150 \ 188 \ 129) \cdot \begin{pmatrix} 10 \\ 10 \\ 20 \end{pmatrix} + 700 = 6660$$

Die Gesamtkosten für den Auftrag betragen 6660 GE.

c) Die Verkaufspreise je ME betragen für E_1 180 GE, für E_2 190 GE und für E_3 240 GE. Berechnen Sie den Gewinn für diesen Auftrag.

$$\text{Erlös für den Auftrag: } (180 \ 190 \ 240) \cdot \begin{pmatrix} 10 \\ 10 \\ 20 \end{pmatrix} = 8500$$

$$\text{Gewinn für den Auftrag: } 8500 - 6660 = 1840$$

Der Gewinn für den Auftrag beträgt 1840 GE.

105

5 Ein Betrieb fertigt aus den Rohstoffen R_1 und R_2 zunächst die Zwischenprodukte Z_1, Z_2 und Z_3 und daraus die Endprodukte E_1 und E_2 . Die Rohstoff-Zwischenprodukt-Matrix A und die Zwischenprodukt-Endprodukt-Matrix B sind gegeben durch

$$A = \begin{pmatrix} 1 & 3 & 4 \\ 2 & 1 & 3 \end{pmatrix}; \quad B = \begin{pmatrix} 3 & 1 \\ 0 & 2 \\ 3 & 4 \end{pmatrix}$$

Die Kosten für die Rohstoffe, die Kosten für die Fertigung der Zwischenprodukte und die Kosten für die Produktion der Endprodukte betragen in GE pro ME:

R_1	R_2	Z_1	Z_2	Z_3	E_1	E_2
2	3	3	4	2	4	3

Pro Bestellung fallen zudem Fixkosten in Höhe von 50 GE an. Ein Kunde bestellt 5 ME von E_1 und 4 ME von E_2 .

a) Berechnen Sie die hierfür benötigten Zwischenprodukt- und Rohstoffmengen.

$$\vec{z} = B \cdot \begin{pmatrix} 5 \\ 4 \end{pmatrix} = \begin{pmatrix} 19 \\ 8 \\ 31 \end{pmatrix}$$

$$\vec{r} = A \cdot \begin{pmatrix} 19 \\ 8 \\ 31 \end{pmatrix} = \begin{pmatrix} 167 \\ 139 \end{pmatrix}$$

b) Berechnen Sie die gesamten Kosten für Rohstoffe, Zwischenprodukte und Endprodukte, die für diesen Auftrag anfallen.

$$K_R = \vec{k}_R \cdot \vec{r} = (2 \ 3) \cdot \begin{pmatrix} 167 \\ 139 \end{pmatrix} = 751$$

$$K_Z = \vec{k}_Z \cdot \vec{z} = (3 \ 4 \ 2) \cdot \begin{pmatrix} 19 \\ 8 \\ 31 \end{pmatrix} = 151$$

$$K_E = \vec{k}_E \cdot \vec{x} = (4 \ 3) \cdot \begin{pmatrix} 5 \\ 4 \end{pmatrix} = 32$$

c) Berechnen Sie die gesamten Herstellkosten für die Bestellung.

$$K = K_R + K_Z + K_E + K_{\text{fix}} = 751 + 151 + 32 + 50 = 984$$

Die gesamten Herstellkosten für die Bestellung betragen 984 GE.

106