

Bohner
Ott
Deusch
Rosner

Mathematisches Grundgerüst

*Ein Mathematikbuch
für die Eingangsklasse
Berufliches Gymnasium
Baden-Württemberg*



Geogebra interaktiv



Lern- und Erklärvideos

Merkur 
Verlag Rinteln

Wirtschaftswissenschaftliche Bücherei für Schule und Praxis
Begründet von Handelsschul-Direktor Dipl.-Hdl. Friedrich Hutkap †

Die Verfasser:

Roland Ott

Studium der Mathematik an der Universität Tübingen

Kurt Bohner

Lehrauftrag Mathematik am BSW Wangen

Studium der Mathematik und Physik an der Universität Konstanz

Ronald Deusch

Lehrauftrag Mathematik am BSZ Bietigheim-Bissingen

Studium der Mathematik an der Universität Tübingen

Stefan Rosner

Lehrauftrag Mathematik an der Kaufmännischen Schule in Schwäbisch Hall

Studium der Mathematik an der Universität Mannheim

Fast alle in diesem Buch erwähnten Hard- und Softwarebezeichnungen sind eingetragene Warenzeichen. Das Werk und seine Teile sind urheberrechtlich geschützt. Jede Nutzung in anderen als den gesetzlich zugelassenen Fällen bedarf der vorherigen schriftlichen Einwilligung des Verlages. Hinweis zu § 60a UrhG: Weder das Werk noch seine Teile dürfen ohne eine solche Einwilligung eingescannt und in ein Netzwerk eingestellt werden. Dies gilt auch für Intranets von Schulen und sonstigen Bildungseinrichtungen.

Die in diesem Buch zitierten Internetseiten wurden vor der Veröffentlichung auf rechtswidrige Inhalte in zumutbarem Umfang untersucht. Rechtswidrige Inhalte wurden nicht gefunden.

Stand: Februar 2021

Umschlag: © frhuynh - Fotolia.com

* * * * *

8. Auflage 2021

© 1995 by MERKUR VERLAG RINTELN

Gesamtherstellung: MERKUR VERLAG RINTELN Hutkap GmbH & Co. KG, 31735 Rinteln

E-Mail: info@merkur-verlag.de; lehrer-service@merkur-verlag.de

Internet: www.merkur-verlag.de

Merkur-Nr. 0206-08-DS

Vorwort

Vorbemerkungen

Der vorliegende Band „Mathematisches Grundgerüst - Ein Mathematikbuch für die Eingangsklasse“ ist ein Lehrbuch für alle beruflichen Gymnasien in Baden-Württemberg, die zum Abitur führen. Das Lehrbuch richtet sich exakt nach dem neuen Bildungsplan für die gymnasiale Oberstufe, Mathematik, in Baden-Württemberg, der zum 01.08.2021 in Kraft tritt.

Dabei berücksichtigt das Autorenteam sowohl die im Lehrplan geforderten inhalts- als auch die prozessbezogenen Kompetenzen K1 bis K6 (modellieren, Werkzeuge und mathematische Darstellungen nutzen, kommunizieren, innermathematische Probleme lösen, Umgang mit formalen und symbolischen Elementen, argumentieren).

Von den Autoren wurde bewusst darauf geachtet, dass die im Bildungsplan aufgeführten Kompetenzen und Zielformulierungen inhaltlich vollständig und umfassend thematisiert werden. Dabei bleibt den Lehrkräften genügend didaktischer Freiraum, eigene Schwerpunkte zu setzen.

Hinweise und Anregungen, die zur Verbesserung beitragen, werden dankbar aufgegriffen.

Die Verfasser

Der Aufbau dieses Buches

Der Stoff in den einzelnen Kapiteln wird schrittweise anhand von **Musterbeispielen mit ausführlichen Lösungen** erarbeitet. Dabei legen die Autoren großen Wert auf die Verknüpfung von Anschaulichkeit und sachgerechter mathematischer Darstellung. Die übersichtliche Präsentation und die methodische Aufarbeitung beeinflusst den Lernerfolg positiv und bietet dem Schüler die Möglichkeit, Unterrichtsinhalte selbstständig zu erschließen bzw. sich anzueignen.

1.2.2 Aufstellen von Geradengleichungen

Beispiel 1

☞ Eine Gerade g hat die Steigung $m = -\frac{3}{2}$ und verläuft durch den Punkt $A(3|2)$.

a) Bestimmen Sie die Gleichung der Geraden g .

b) Die Gerade h verläuft parallel zu g durch den Punkt $P(0|1)$.
Wie lautet die Gleichung von h ?

Lösung

a) Ansatz für die Geradengleichung: $y = mx + b$
Einsetzen von $m = -\frac{3}{2}$: $y = -\frac{3}{2}x + b$
Punktprobe mit $A(3|2)$: $2 = -\frac{3}{2} \cdot 3 + b$
Umformen nach b liefert: $b = \frac{17}{2}$
Geradengleichung: $y = -\frac{3}{2}x + \frac{17}{2}$

b) Parallel bedeutet gleiche Steigung.
Wegen $m_g = m_h$ und $m_g = -\frac{3}{2}$ folgt: $y = -\frac{3}{2}x + b$
 $P(0|1)$ liegt auf h : $b = 1$
Geradengleichung von h : $y = -\frac{3}{2}x + 1$


Beispiel 2

☞ Eine Gerade g verläuft durch die Punkte $S(0|1)$ und $A(3|2)$.
Zeichnen Sie die Gerade g . Bestimmen Sie die Steigung von g aus den Koordinaten von S und A . Geben Sie die Gleichung von g an.

Lösung

Wir lesen die Steigung m aus dem Steigungsdreieck ab:

$m = \frac{2-1}{3-0} = \frac{1}{3}$



Jede Lerneinheit schließt mit einer ausreichenden Anzahl von **Aufgaben** ab. Diese sind zur Ergebnissicherung und Übung gedacht, aber auch als Hausaufgaben geeignet. Kompetenzorientierte Aufgaben mit unterschiedlichem Schwierigkeitsgrad ermöglichen es dem Schüler, den Stoff zu festigen und zu vertiefen. Beispiele und Aufgaben aus dem Alltag und aus der Wirtschaft stellen einen praktischen Bezug her. Eine Differenzierung der Aufgaben ist durch Farben gegeben:

- grün:** Lösung ohne Hilfsmittel
- blau:** keine Vorgabe zur Lösung

Definitionen, Festlegungen, Merksätze und mathematisch wichtige **Grundlagen** sind in Rot gekennzeichnet.

Die Aufgaben „**Test zur Überprüfung Ihrer Grundkenntnisse**“ sind zur Ergebnissicherung und Übung gedacht, aber auch als Hausaufgaben geeignet. Sie werden im Anhang ausführlich gelöst.



Die **Heftklammer** im Lehrbuch mit Seitenangabe weist auf einen entsprechenden Abschnitt im Kapitel Grundwissen hin.



Für **Aufgaben mit dem Download-Logo** stehen ausführliche Lösungen zum Download bereit. Sie finden diese in der Mediathek zum Buch auf unserer Webseite <https://www.merkur-verlag.de>.



Die Entwicklung mathematischer Kompetenzen wird durch den sinnvollen Einsatz digitaler Mathematikwerkzeuge unterstützt. Im Buch wird **Geogebra** in vielfältiger Weise, zur Erarbeitung von mathematischen Inhalten und zur Lösung von Aufgaben eingesetzt.



Videos dienen der Veranschaulichung von Problemen und Erläuterung von Lösungswegen. Sie unterstützen die Lernenden beim Entdecken mathematischer Zusammenhänge.

Aufgaben

1 Gegeben ist die Funktion f . Zeichnen Sie das zugehörige Schaubild.
Bestimmen Sie $f(-1.5)$ und einen x -Wert für $f(x) = 1$. Geben Sie den Wertebereich von f an.
a) $f(x) = \frac{1}{2}x + 1$ b) $f(x) = 6 - 2x$ c) $f(x) = 0.25x^2$ d) $f(x) = 4 - x^2$

2 Stellen Sie folgende Zuordnungen grafisch dar.
a)

x	-1	-0.5	1	1.5	2
y	2	-1	2	-0.5	3

 b)

x	-1	-0.5	0	0.5	1	1.5
y	-2	0	-2	-1	3	7

3 Drücken Sie die Zuordnung als Wertetabelle aus.
a) b)

4 Die Abbildung zeigt das Schaubild der Funktion f . Bestimmen Sie Definitions- und Wertemenge von f .
a) b)

5 Welches Schaubild gehört zu einer Funktion $f: x \mapsto f(x)$? Begründen Sie.

Symmetrie zum Ursprung
Können im Funktionsterm **nur ungerade Exponenten** von x vor, dann ist das Schaubild **symmetrisch zum Ursprung**. Die Bedingung für Punktsymmetrie zu $O(0|0)$: $f(-x) = -f(x)$, ist erfüllt.
Beispiele: $f(x) = ax$; $f(x) = ax^3 + cx$; $f(x) = ax^3 + bx^2 + cx$

Symmetrie zur y-Achse
Können im Funktionsterm **nur gerade Exponenten** von x vor, dann ist das Schaubild **symmetrisch zur y-Achse**. Die Bedingung für Symmetrie zur y-Achse: $f(-x) = f(x)$, ist erfüllt.

Test zur Überprüfung Ihrer Grundkenntnisse

1 Gegeben ist die Polynomfunktion f mit Schaubild K.
Bestimmen Sie drei Eigenschaften von K aus dem Funktionsterm.
a) $f(x) = 0.5x - 4x^2 - 3$
b) $f(x) = 20x^3 - 49x + 4$
c) $f(x) = \frac{1}{4}x^4 + \frac{3}{2}x^2 + 2$

2 Untersuchen Sie die Funktion f mit $f(x) = 0(x + 1)(x - 2)(x - 5)$; $x \in \mathbb{R}$, auf Nullstellen. Skizzieren Sie den Graphen von f .

3 Die Abbildungen zeigen Schaubilder von Polynomfunktionen. Ordnen Sie jedem Schaubild einen Funktionsterm zu. Begründen Sie Ihre Zuordnung.
 $f(x) = -\frac{1}{2}x^4 + x^2$; $g(x) = x^3 + 3$; $h(x) = 0.25(x + 2)(x - 3)(x - 2)$; $i(x) = x^3 + 2x^2$

4 Das Schaubild der linearen Funktion f mit $f(x) = mx + n$ verläuft durch den Punkt $A(2|3)$. Ermitteln Sie m .

5 Bestimmen Sie die Lösungsmenge $\{x \in \mathbb{R}\}$.
a) $20x - 3(5x + 7) = -2(3 - x)$ b) $5x - (8 + 9x) = 12$
c) $-4x - \frac{3}{2} = -\frac{1}{2}x - 1$ d) $\frac{3}{2}x + \frac{3}{2} = x + 4$
e) $(x - 3)(4 - x) = 2 - (x + 5)(x - 1)$ f) $-\frac{1}{2}(2x - 1) = 1 - \frac{5}{2}x$

6 Das Schaubild der linearen Funktion f mit $f(x) = mx + n$ verläuft durch den Punkt $A(2|3)$. Ermitteln Sie m .

7 Für einen Betrieb lässt sich der Gewinn durch eine lineare Funktion beschreiben. Bei einer Produktion von 2ME beträgt der Gewinn 350GE. Die Gewinnzunahme pro ME beträgt 275GE. Bestimmen Sie die lineare Gewinnfunktion. Für welche Produktionsmenge beträgt der Gewinn 1075GE?

12 1 Funktionen

1.1 Einführung in Funktionen

1.1.1 Das rechtwinklige Koordinatensystem

Durch das rechtwinklige Koordinatensystem lassen sich Punkte in der Ebene eindeutig festlegen. Zur Festlegung eines Punktes in der Ebene braucht man die **Koordinate (Abszisse)** und die **y-Koordinate (Ordinate)**.

II. Quadrant $\mathbb{R} \times \mathbb{R}$

12 K ist das Schaubild der linearen Funktion f mit $f(x) = -\frac{2}{3}x + 2$. G ist das Schaubild einer zweiten Funktion g . G steht senkrecht auf K und verläuft durch den Punkt $P(-2|1.5)$.

a) Berechnen Sie die Koordinaten der Schnittpunkte von K mit den Koordinatenachsen.
b) Bestimmen Sie den Funktionsterm $g(x)$.
c) Berechnen Sie die Koordinaten des Schnittpunktes von K und G .
d) In welchem Bereich verläuft K oberhalb von G ?

13 Die Gerade g in Abbildung 1 hat die Gleichung $y = \frac{2}{3}x + 1$

Inhaltsverzeichnis

I Funktionen		10
1	Vertiefung der Mathematik aus der Sekundarstufe 1	10
1.1	Einführung in Funktionen	12
1.1.1	Das rechtwinklige Koordinatensystem	12
1.1.2	Definition einer Funktion	14
1.2	Lineare Funktionen	21
1.2.1	Definition einer linearen Funktion	21
1.2.2	Aufstellen von Geradengleichungen	25
1.2.3	Schnittpunkte	28
1.2.4	Modellierung und anwendungsorientierte Aufgaben	36
2	Potenzfunktionen	42
2.1	Definition und Eigenschaften	44
2.1.1	Potenzfunktionen mit natürlicher Hochzahl	44
2.1.2	Potenzfunktionen mit negativer ganzer Hochzahl	45
2.1.3	Potenzfunktion f mit $f(x) = x^n$	46
2.2	Transformationen	47
2.3	Potenzgleichungen	54
2.4	Anwendungen von Potenzfunktionen	59
3	Polynomfunktionen	62
3.1	Definition einer Polynomfunktion	64
3.2	Polynomfunktionen und ihre Eigenschaften	68
3.2.1	Globales Verhalten	68
3.2.2	Symmetrie	71
3.3	Polynomgleichungen und geometrische Interpretation	75
3.3.1	Lösung von Polynomgleichungen	75
3.3.2	Gemeinsame Punkte von Graphen mit der x -Achse	81
3.3.3	Gemeinsame Punkte von zwei Graphen	91
3.4	Aufstellen von Funktionstermen	101
3.5	Polynomfunktionen in Anwendungen	109
3.5.1	Modellierung und anwendungsorientierte Aufgaben	109
3.5.2	Optimierungsprobleme	115
4	Exponentialfunktionen	120
4.1	Einführungsbeispiele	122
4.2	Definition einer Exponentialfunktion	124
4.3	Die Euler'sche Zahl e	126
4.4	Exponentialfunktionen zur Basis e	127
4.5	Transformationen	128
4.6	Schaubilder von Exponentialfunktionen	131
4.7	Aufstellen von Funktionstermen	136
4.8	Exponentialgleichungen und geometrische Interpretation	138
4.8.1	Der Logarithmus	138
4.8.2	Exponentialgleichungen	140
4.8.3	Bestimmung von gemeinsamen Punkten	145
4.9	Wachstumsprozesse	150
4.9.1	Lineares Wachstum (Zu- und Abnahme)	150
4.9.2	Exponentielles Wachstum	151
4.9.3	Beschränktes Wachstum	158

8 Inhaltsverzeichnis

5	Änderungsrate und grafisches Differenzieren	162
5.1	Änderungsrate	164
5.2	Grafisches Differenzieren	169
5.3	Ableitungsregeln	175

II Vektorielle Geometrie

180

1	Raumanschauung und Koordinatisierung	180
1.1	Punkte	182
1.2	Vektoren	187
1.3	Rechnen mit Vektoren	189
1.3.1	Addition und Subtraktion	189
1.3.2	Skalare Multiplikation	192
2	Maße und Längen	198
2.1	Betrag eines Vektors	198
2.2	Skalarprodukt	200
2.3	Flächenberechnungen	205

Grundwissen

210

1	Zahlenmengen	210
2	Algebraische Begriffe und Vorübungen	212
2.1	Begriffe	212
2.2	Rechnen mit Summen und Differenzen	212
2.3	Rechnen mit Brüchen	214
2.4	Vereinfachung durch Ausklammern	215
2.5	Rechnen mit Potenzen	216
3	Gleichungen und Gleichungssysteme	219
3.1	Lineare Gleichungen	219
3.2	Lineare Gleichungssysteme	221
3.3	Quadratische Gleichungen	223

Anhang

227

1	Exkurs: Probleme lösen	227
2	Lösungen der Tests	232
3	Lösungen der Aufgaben im Kapitel Grundwissen	243
4	Einführung in Geogebra, Geogebra- und Videolisten	246
	Mathematische Zeichen	252
	Stichwortverzeichnis	253
	Abbildungsverzeichnis	255



I Funktionen

1 Vertiefung der Mathematik aus der Sekundarstufe 1

In Natur und Alltag hängt eine Größe sehr oft von einer anderen Größe ab, z. B. Preis und Menge, Temperatur und Zeitpunkt, Weg und Zeit, Bremsweg und Geschwindigkeit, Zinsen und Zeit. In vielen Fällen lassen sich die Zusammenhänge und Abhängigkeiten mithilfe von Funktionen mathematisch erfassen.



mvurl.de/vajt

Qualifikationen & Kompetenzen

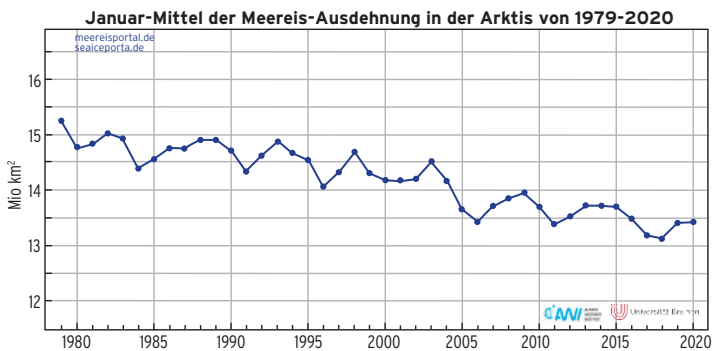
- Funktionale Zusammenhänge erkennen und darstellen
- Lineare Funktionen beschreiben, darstellen und deuten
- Lineare Ungleichungen geometrisch deuten und lösen
- Lagebeziehung zweier Geraden untersuchen
- Realitätsbezogene Zusammenhänge darstellen

Beispiel

Klimaveränderung in der Arktis

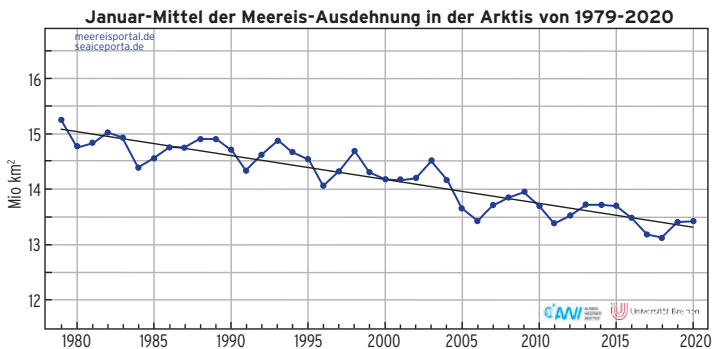


Meereisenausdehnung



Im Diagramm ist das Januar-Mittel der Meereis-Ausdehnung in der Arktis von 1979 bis 2020 dargestellt. Für jedes Jahr lässt sich die Ausdehnung ablesen.

Trendgerade



Der Trend kann mithilfe einer Geraden dargestellt werden. Diese Gerade wird durch eine lineare Funktion beschrieben.

Aufgaben

1 Gegeben sind die Punkte $A_1(-1|3)$, $A_2(0|1,25)$, $A_3(2,5|4,8)$, $A_4(-4,5|0)$ und $A_5(-7|-10)$.
Wo liegen diese Punkte im Koordinatensystem?

2 Zeichnen Sie folgende Punkte in ein geeignetes Koordinatensystem ein.

Es gibt einen Zusammenhang von x - und y -Koordinate.

Stellen Sie hierfür einen Term auf und geben Sie drei weitere Punkte an.

a) $A(4|1)$; $B(10|4)$; $C(2|0)$; $D(8|3)$; $E(1|-0,5)$

b) $A(40|220)$; $B(100|250)$; $C(200|300)$; $D(80|240)$

3

a) Ergänzen Sie die Koordinaten der Punkte $A(\dots|-3)$, $B(-1|\dots)$ und $C(-4,25|\dots)$ so, dass diese Punkte im 3. Quadranten liegen.

b) Welche Eigenschaften haben alle Punkte im 1. Quadranten?

c) Welche Eigenschaften haben alle Punkte auf der positiven x -Achse?

4



Seite 210

a) Für welche Werte von $t \in \mathbb{R}$ liegt der Punkt $P_t(t+5|2t-6)$ unterhalb der x -Achse?

b) Für welche Werte von $t \in \mathbb{R}$ liegt der Punkt $Q_t(t-1|8-2t)$ im 1. Quadranten?

5 Gegeben ist die Punktmenge $A = \left\{ (1|3); \left(2\left|\frac{3}{2}\right.\right); (3|1); \left(4\left|\frac{3}{4}\right.\right); \dots \right\}$.

Geben Sie drei weitere Elemente von A an. Tragen Sie die Punkte in ein Achsenkreuz ein. Beschreiben Sie den Zusammenhang von x - und y -Koordinate.

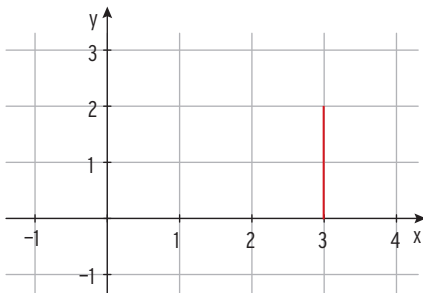
6 Gegeben ist der Punkt $P\left(t\left|\frac{t}{2}+3\right.\right)$ mit $t \in \mathbb{R}$.

Wählen Sie für t einige Werte und tragen Sie die zugehörigen Punkte in ein Koordinatensystem ein. Wie liegen die Punkte im Koordinatensystem?

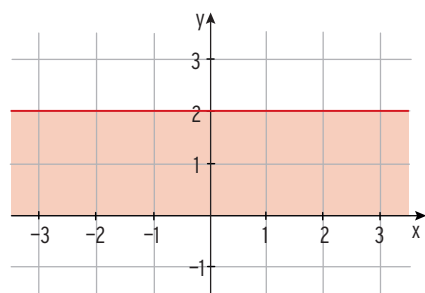
Für welche t -Werte gilt: x -Koordinate ist gleich y -Koordinate?

7 Beschreiben Sie die rot gekennzeichnete Strecke bzw. Fläche.

a)



b)





2 Potenzfunktionen

In der Geometrie und der Physik kommen Formeln der unterschiedlichsten Art vor. In einigen Fällen z. B. $V = a^3$ bzw. $s = \frac{1}{2}at^2$ treten Potenzen auf, die zugehörigen Funktionen heißen Potenzfunktionen.



mvurl.de/ka44

Qualifikationen & Kompetenzen

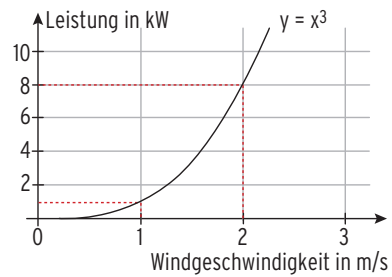
- Potenzfunktionen beschreiben, darstellen und deuten
- Schaubilder untersuchen
- Transformationen durchführen
- Potenzgleichungen lösen
- Realitätsbezogene Zusammenhänge darstellen

Beispiel 1

Windrad




Leistung eines Windrades



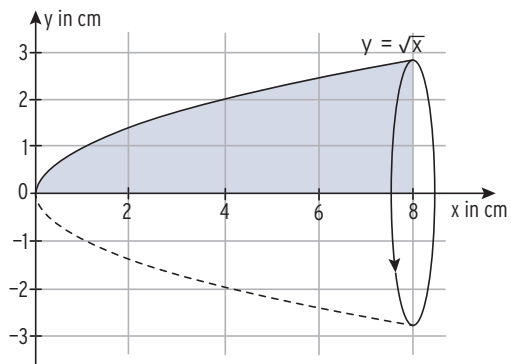
In dem Diagramm ist die Leistung des Windrades in Abhängigkeit von der Windgeschwindigkeit aufgetragen. Eine Verdoppelung der Windgeschwindigkeit führt zu einer Verachtfachung (2^3) der Leistung.

Beispiel 2

Sektglas



Randkurve



Die blau hinterlegte Fläche rotiert um die x-Achse und beschreibt dadurch einen Rotationskörper. Mithilfe der Randkurve kann dessen Volumeninhalt berechnet werden.



2.1 Definition und Eigenschaften

Eine Funktion f mit $f(x) = x^r$; $x \in D$; $r \in \mathbb{Q}^*$, ist eine **Potenzfunktion**.
 \mathbb{Q}^* ist die Menge aller **Bruchzahlen ohne Null**.



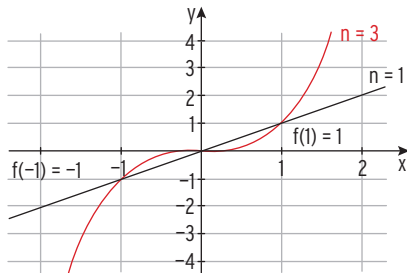
2.1.1 Potenzfunktionen mit natürlicher Hochzahl

f mit $f(x) = x^n$; $x \in \mathbb{R}$; $n \in \mathbb{N}^*$

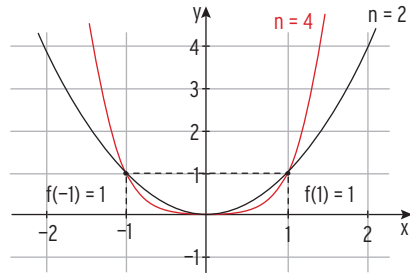


Beispiele

Hochzahl ungerade



Hochzahl gerade



Eigenschaften

• Globales Verhalten

Für $x \rightarrow \infty$ gilt: $f(x) \rightarrow \infty$
 Für $x \rightarrow -\infty$ gilt: $f(x) \rightarrow -\infty$
 Das Schaubild verläuft vom III. in den I. Quadranten.

• Wertebereich

$W = \mathbb{R}$ ($f(x) \in \mathbb{R}$)

• Symmetrie

Das Schaubild ist **symmetrisch zum Ursprung**.

Z. B.: $f(-1) = -f(1)$
 allgemein: **$f(-x) = -f(x)$**

• Stetigkeit

Das Zeichnen des Graphen von f ist ohne Absetzen des Stifts möglich.
 Man sagt, f ist stetig auf $D = \mathbb{R}$.

Für $x \rightarrow \infty$ gilt: $f(x) \rightarrow \infty$
 Für $x \rightarrow -\infty$ gilt: $f(x) \rightarrow \infty$
 Das Schaubild verläuft vom II. in den I. Quadranten.

$W = \mathbb{R}_+$ ($f(x) \geq 0$)

Z. B.: $f(-1) = f(1)$
 allgemein: **$f(-x) = f(x)$**

Aufgaben

1 Zeichnen Sie die Funktionsgraphen von f und g mit $f(x) = x^5$ und $g(x) = x^6$.
 Geben Sie Eigenschaften dieser Graphen an.



2 Gegeben ist die Funktion f mit $f(x) = x^n$; $x \in \mathbb{R}$; $n \in \mathbb{N}^*$.
 Bestimmen Sie die Hochzahl n , sodass der Punkt auf dem Schaubild von f liegt.

a) $P(0,5 | 0,25)$

b) $P(-2 | 16)$

c) $P(-3 | -27)$

2.1.2 Potenzfunktionen mit negativer ganzer Hochzahl

f mit $f(x) = x^{-n}$; $x \in \mathbb{R}^*$; $n \in \mathbb{N}^*$

Beispiel

f mit $f(x) = x^{-1}$; $x \in \mathbb{R}^*$

Mit $x^{-1} = \frac{1}{x}$ erhält man die Darstellung: $f(x) = \frac{1}{x}$

$$x^{-1} = \frac{1}{x}$$

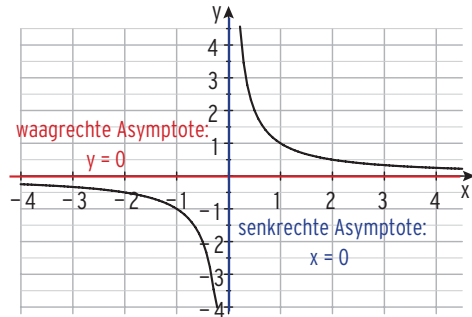
Erläuterung zum Definitionsbereich D

Der Bruch $\frac{1}{x}$ ist für $x = 0$ nicht definiert, der Nenner darf nicht null sein.

$x_1 = 0$ ist eine Definitionslücke.

Maximaler Definitionsbereich: $D = \mathbb{R} \setminus \{0\} = \mathbb{R}^*$

Hinweis: Das Schaubild von f heißt Hyperbel.



Wertetabelle

x	$-\infty \leftarrow$	-10	-5	-1	-0,1	$\rightarrow 0$
y	$0 \leftarrow$	-0,1	-0,2	-1	-10	$\rightarrow -\infty$

x	$0 \leftarrow$	0,1	1	5	10	$\rightarrow \infty$
y	$\infty \leftarrow$	10	1	0,2	0,1	$\rightarrow 0$

Eigenschaften

• Globales Verhalten

Verhalten der Funktionswerte für $x \rightarrow \infty$ bzw. für $x \rightarrow -\infty$ (d. h. $x \rightarrow \pm \infty$)

Aus der Wertetabelle: Streben die x -Werte gegen $+\infty$ bzw. gegen $-\infty$, streben die $f(x)$ -Werte gegen null. Der Graph von f nähert sich in beiden Fällen der x -Achse an.

Die x -Achse ist Näherungsgerade mit der Gleichung $y = 0$.

Man nennt diese Näherungsgerade **waagrechte Asymptote**.

Schreibweise: $f(x) = \frac{1}{x} \rightarrow 0$ für $x \rightarrow \infty$ bzw. $\lim_{x \rightarrow \infty} \frac{1}{x} = 0$

• Verhalten bei Annäherung an die Definitionslücke

Verhalten der Funktionswerte für $x \rightarrow 0$ (Definitionslücke)

Aus der Wertetabelle: Streben die x -Werte gegen null, streben die $f(x)$ -Werte für $x > 0$ gegen $+\infty$, für $x < 0$ gegen $-\infty$.

Der Graph von f nähert sich in beiden Fällen immer mehr der y -Achse an.

Die y -Achse ist Näherungsgerade mit der Gleichung $x = 0$.

Man nennt diese Näherungsgerade **senkrechte Asymptote**.

Eine Definitionslücke mit den beschriebenen Eigenschaften der $f(x)$ -Werte nennt man eine **Polstelle**. $x_1 = 0$ ist eine Polstelle.

• Wertebereich

$W = \mathbb{R}^* (f(x) \neq 0)$

• Symmetrie

Das Schaubild ist symmetrisch zum Ursprung, wegen $f(-x) = \frac{1}{-x} = -\frac{1}{x} = -f(x)$.

Aufgaben

- Gegeben ist eine Funktion f mit $f(x) = x^{-2}$; $x \in \mathbb{R}^*$. K ist das Schaubild von f . Zeichnen Sie K . Geben Sie den Wertebereich von f an. Nennen Sie Eigenschaften von K .



Seite 216



mvurl.de/snb3



mvurl.de/zj5m



3 Polynomfunktionen

Phänomene in Natur, Technik und Wirtschaft lassen sich oft durch Polynomfunktionen modellieren. Das Profil der Skisprungschanze lässt sich näherungsweise durch den Graphen einer Polynomfunktion darstellen. Durch eine mathematische Beschreibung sind weitere Untersuchungen und damit ein tieferes Verständnis möglich.



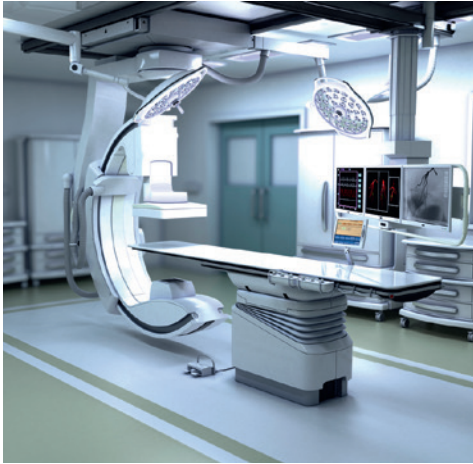
mvurl.de/iftc

Qualifikationen & Kompetenzen

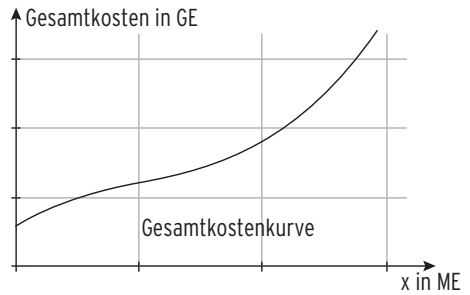
- Polynomfunktionen beschreiben, darstellen und deuten
- Funktionsterm einer Polynomfunktion aus Bedingungen ermitteln
- Polynomgleichungen lösen und grafisch deuten
- Realitätsbezogene Zusammenhänge darstellen

Beispiel 1

Medizintechnik



Kostenverlauf



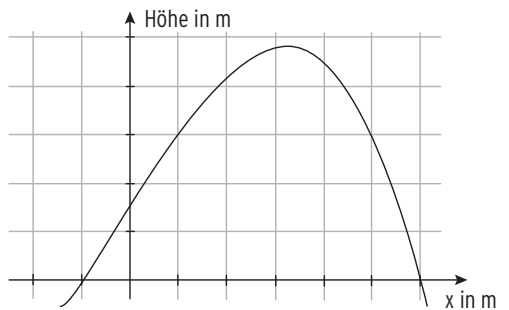
Die Gesamtkosten in Geldeinheiten (GE) für die Produktion medizinischer Geräte in Mengeneinheiten (ME) werden durch eine Polynomfunktion modelliert.

Beispiel 2

Achterbahn



Höhenprofil



Teile der Achterbahn lassen sich als Graph einer Polynomfunktion darstellen.

3.1 Definition einer Polynomfunktion

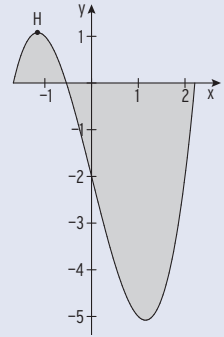
Allgemeine Form



mvurl.de/h8vI

Beispiel

- Der Graph der Funktion f mit $f(x) = x^3 - 4x - 2$; $x \in \mathbb{R}$, beschreibt modellhaft das Profil eines Kanals ($-1,6 \leq x \leq 2,2$) sowie die links angrenzende Uferböschung mit Erhebung (1LE = 1m). Die x -Achse befindet sich auf der Höhe der Kanalwasseroberfläche (siehe Abb.). Der Punkt H hat die Koordinaten $x_H \approx -1,15$ und $y_H \approx 1,08$. Interpretieren Sie H im Sachzusammenhang. Bestimmen Sie die größte Tiefe des Kanals auf eine Dezimale gerundet.



Lösung

$H(-1,15 \mid 1,08)$ ist der höchste Punkt der Uferböschung, 1,08 ist der größte Funktionswert auf dem Bereich $-1,6 \leq x \leq 2,2$.

Eine Wertetabelle für $1 \leq x \leq 1,5$ liefert:

$f(1,2) = -5,072$ als kleinsten Wert.

Die größte Tiefe des Kanals beträgt etwa 5,1 m.

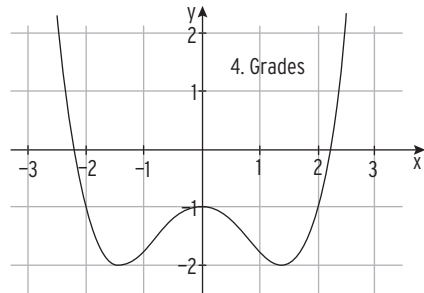
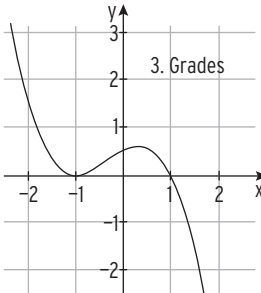
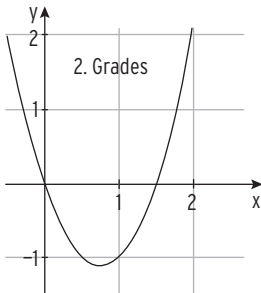
x	Y ₁
1	-5
1.1	-5.069
1.2	-5.072
1.3	-5.003
1.4	-4.856
1.5	-4.625
1.6	-4.304
1.7	-3.887

Die Abbildungen zeigen Graphen von Polynomfunktionen für $x \in \mathbb{R}$.

a) $f(x) = 2x^2 - 3x$

b) $f(x) = -\frac{1}{2}(x^3 + x^2 - x - 1)$

c) $f(x) = \frac{1}{4}x^4 - x^2 - 1$



Eine **Polynomfunktion** f n -ten Grades ist gegeben durch

$$f(x) = a_n x^n + a_{n-1} x^{n-1} + \dots + a_1 x + a_0; \quad x \in \mathbb{R}; \quad a_n \neq 0.$$

a_n, \dots, a_0 heißen Koeffizienten; $a_n, \dots, a_0 \in \mathbb{R}$

Der maximale Definitionsbereich von f ist $D = \mathbb{R}$.

Polynomfunktionen sind stetig auf \mathbb{R} .

$a_n x^n + a_{n-1} x^{n-1} + \dots + a_1 x + a_0$ ist ein **Polynom n -ten Grades**.

Hinweis: Polynomfunktionen werden auch als **ganzrationale Funktionen** bezeichnet.

Beispiele von Polynomfunktionen in allgemeiner Formf mit $f(x) = 4 - 3x$ Lineare Funktion, Polynomfunktion 1. Gradesf mit $f(x) = 2x^2 - x + 1$ Quadratische Funktion, Polynomfunktion 2. Gradesf mit $f(x) = x^3 + 2x^2 - 4x - 5$ Polynomfunktion 3. Gradesf mit $f(x) = x^5 + x^2 - 4$ Polynomfunktion 5. Grades**Hinweis:** f mit $f(x) = \frac{2}{x}$ ist keine Polynomfunktion.**Scheitelform einer Parabelgleichung****Beispiel**

- ➔ Der Graph der Funktion f mit $f(x) = \frac{1}{2}(x - 3)^2 + 1$, $x \in \mathbb{R}$, ist eine Parabel.
Zeichnen Sie den Graphen von f.
Welche Informationen beinhaltet der Funktionsterm?

Lösung

$y = \frac{1}{2}(x - 3)^2 + 1$ ist die Scheitelform einer Parabelgleichung.

Die Parabel ist nach oben geöffnet

(positiver Faktor $\frac{1}{2}$ vor x^2)

S(3 | 1) ist der Scheitel der Parabel,

S ist der tiefste Punkt der Parabel,

1 ist der kleinste Funktionswert auf \mathbb{R} .

$x = 3$ ist Symmetrieachse.

Der Graph von f entsteht aus der Normalparabel ($y = x^2$) durch

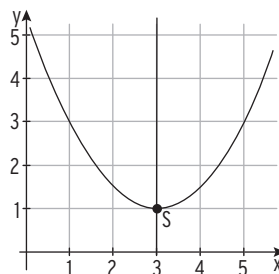
Streckung in y-Richtung mit Faktor $\frac{1}{2}$,

Verschiebung um 3 nach rechts

und Verschiebung um 1 nach oben.

Ausmultiplizieren ergibt die allgemeine Form: $f(x) = \frac{1}{2}(x^2 - 6x + 9) + 1$

$$f(x) = \frac{1}{2}x^2 - 3x + 5,5$$



Die Form $y = a(x - x_S)^2 + y_S$ heißt **Scheitelform** der Parabelgleichung.

Der Scheitel der Parabel ist S(x_S | y_S).

Die **allgemeine Form** der Parabelgleichung lautet $y = ax^2 + bx + c$; $a \neq 0$.

Die zugehörige Funktion ist eine Polynomfunktion 2. Grades (**quadratische Funktion**).

Hinweis: Der **Scheitelpunkt** ist der **höchste** bzw. der **tiefste Punkt** einer **Parabel**.

Produktform

Beispiel 1

- ➔ Bestimmen Sie die Nullstellen von f mit $f(x) = (x + 2)(x - 3)$; $x \in \mathbb{R}$.
Skizzieren Sie den Graphen von f . Geben Sie die allgemeine Form an.

Lösung

Bedingung für die Nullstellen: $f(x) = 0$
 $(x + 2)(x - 3) = 0$

Satz vom Nullprodukt: $x + 2 = 0$ oder $x - 3 = 0$
 $x = -2$ oder $x = 3$

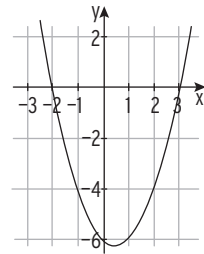
Nullstellen von f : $x_1 = -2$; $x_2 = 3$

Hinweis: $(x + 2)$ und $(x - 3)$ sind Linearfaktoren.

Ausmultiplizieren: $f(x) = (x + 2)(x - 3)$
 $f(x) = x^2 + 2x - 3x - 6$

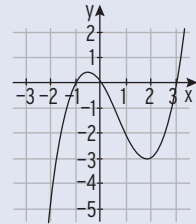
Allgemeine Form: $f(x) = x^2 - x - 6$

$u \cdot v = 0$
 $u = 0$ oder $v = 0$
 Satz vom Nullprodukt



Beispiel 2

- ➔ Die Abbildung zeigt den Graphen der Funktion f mit $f(x) = \frac{x}{2}(x - 3)(x + 1)$, $x \in \mathbb{R}$.
Überprüfen Sie die Nullstellen durch Berechnung.
Geben Sie die allgemeine Form an.



Lösung

Der Graph von f schneidet die x -Achse in $-1, 0, 3$.

$f(x) = 0$ $\frac{x}{2}(x - 3)(x + 1) = 0$

Satz vom Nullprodukt: $\frac{x}{2} = 0$ oder $x - 3 = 0$ oder $x + 1 = 0$

Lösungen (Nullstellen von f): $x_1 = 0$; $x_2 = 3$; $x_3 = -1$

Ausmultiplizieren ergibt: $f(x) = \frac{x}{2}(x^2 - 2x - 3) = \frac{1}{2}x^3 - x^2 - \frac{3}{2}x$ Allgemeine Form

Satz vom Nullprodukt

Ein Produkt ist genau dann Null, wenn mindestens einer der Faktoren Null ist.

Beispiel 3

- ➔ Eine Polynomfunktion 3. Grades hat die drei Nullstellen $x_1 = -1$; $x_2 = 1$; $x_3 = 4$.
Geben Sie einen möglichen Funktionsterm auch in der allgemeinen Form an.

Lösung

Jede Nullstelle entspricht einem Linearfaktor: $f(x) = (x + 1)(x - 1)(x - 4)$

Ausmultiplizieren: $f(x) = (x^2 - 1)(x - 4) = x^3 - 4x^2 - x + 4$ Allgemeine Form
 oder auch $f(x) = 2 \cdot (x + 1)(x - 1)(x - 4) = 2x^3 - 8x^2 - 2x + 8$

Aufgaben

1 Entscheiden Sie: Liegt eine Polynomfunktion vor?

Wenn ja, geben Sie den Grad und die Koeffizienten an.

- a) $f(x) = -3x^3 - x^2 + 4$ b) $f(x) = \frac{1}{6}(x - 1)$ c) $f(x) = -\frac{1}{4}(x + 3)(x - 1)$
 d) $f(x) = x^4 - x^3 + \frac{5}{2}$ e) $f(x) = 3 + (x - 1)^2$ f) $f(x) = \frac{1}{4}(x^2 + 2)(x^2 - 1)$
 g) $f(x) = x - \frac{5}{x}$ h) $f(x) = x^{-1} - 4$ i) $f(x) = \frac{1}{5}\sqrt{x + 2}$

2 Gegeben ist die Polynomfunktion f mit $f(x) = \frac{1}{2}(x + 2)(x - 3)(x - 1)$; $x \in \mathbb{R}$.

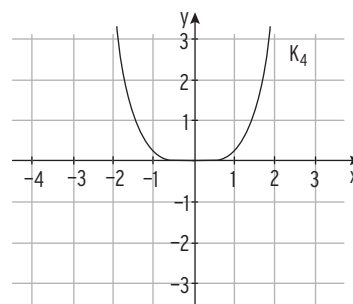
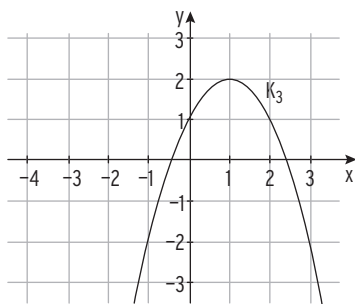
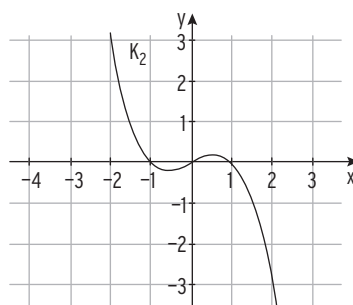
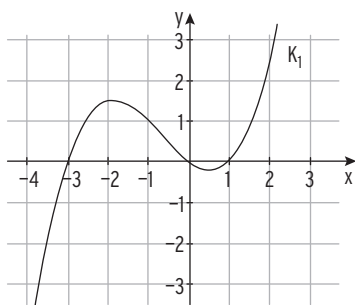
Geben Sie die Nullstellen von f an. Wie lautet $f(x)$ in allgemeiner Form?

3 Eine Polynomfunktion f 4. Grades hat die 4 Nullstellen ± 1 und ± 2 .

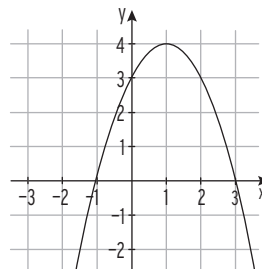
Geben Sie einen möglichen Funktionsterm an.

4 Ordnen Sie jeder Abbildung einen Funktionsterm zu. Begründen Sie Ihre Zuordnung mithilfe des Funktionsterms.

$f(x) = -(x - 1)^2 + 2$, $g(x) = -0,5x(x - 1)(x + 1)$, $h(x) = \frac{1}{4}x(x + 3)(x - 1)$, $k(x) = \frac{x^4}{4}$



5 Die Abbildung zeigt den Graphen einer quadratischen Funktion. Bestimmen Sie den Funktionsterm in Scheitelform, in Produktform und in der allgemeinen Form. Geben Sie die Symmetrieachse an.



3.4 Aufstellen von Funktionstermen

Beispiel 1

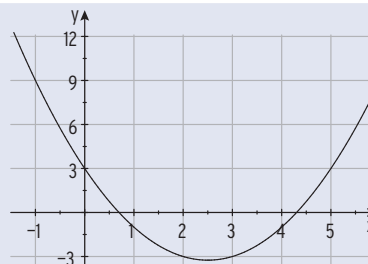
➔ Der Graph einer quadratischen Funktion f ist symmetrisch zur y -Achse und geht durch die Punkte $P(0 | -5)$ und $Q(-1 | -2)$. Bestimmen Sie $f(x)$.

Lösung

Ansatz wegen Symmetrie zur y -Achse: $f(x) = ax^2 + c$
 Punktprobe mit P : $f(0) = -5$ $c = -5$
 Punktprobe mit Q in $f(x) = ax^2 - 5$: $a \cdot (-1)^2 - 5 = -2$
 Auflösung ergibt: $a = 3$
 Funktionsterm: $f(x) = 3x^2 - 5$

Beispiel 2

➔ Die Abbildung zeigt eine Parabel. Bestimmen Sie die Parabelgleichung.



Lösung

AbleSEN: Die Parabel verläuft durch die Punkte $A(0 | 3)$, $B(2 | -3)$, $C(-1 | 9)$.

Mit $A(0 | 3)$ ergibt sich der Ansatz: $f(x) = ax^2 + bx + 3$
 Punktprobe mit $B(2 | -3)$ heißt Einsetzen von $x = 2$ und $y = -3$
 in die Parabelgleichung $y = ax^2 + bx + 3$: $a \cdot 2^2 + b \cdot 2 + 3 = -3$
 Punktprobe mit $C(-1 | 9)$: $a \cdot (-1)^2 + b \cdot (-1) + 3 = 9$

Übersichtliche Darstellung in Form einer Tabelle:

Punkt	Bedingung	Gleichung
$B(2 -3)$	$f(2) = -3$	$4a + 2b + 3 = -3$
$C(-1 9)$	$f(-1) = 9$	$a - b + 3 = 9$

Vereinfachung ergibt ein (2;2)-LGS: $4a + 2b = -6$
 $a - b = 6 \quad | \cdot 2$

Additionsverfahren: $4a + 2b = -6$
 $2a - 2b = 12 \quad \leftarrow +$

Addition: $6a = 6$
 $a = 1$

Einsetzen von $a = 1$ in z.B. $a - b = 6$:
 $1 - b = 6$
 $b = -5$

Parabelgleichung: $y = x^2 - 5x + 3$



Beispiel 3

➔ Der Graph einer Polynomfunktion 3. Grades ist symmetrisch zum Ursprung und verläuft durch $A(-2|-8)$ und $B(1|2,5)$. Bestimmen Sie den Funktionsterm.

Lösung

Wegen der gegebenen Punktsymmetrie wählt man den Ansatz $f(x) = ax^3 + cx$.

Lineares Gleichungssystem für a, c :

Punkt	Bedingung	Gleichung
$A(-2 -8)$	$f(-2) = -8$	$-8a - 2c = -8$
$B(1 2,5)$	$f(1) = 2,5$	$a + c = 2,5$

↖ · 8

Das lineare Gleichungssystem löst man mit dem Additionsverfahren: $6c = 12$ ergibt $c = 2$

Einsetzen in $a + c = 2,5$ ergibt: $a = 0,5$

und damit den gesuchten Funktionsterm: $f(x) = 0,5x^3 + 2x$

Beispiel 4

➔ Das Schaubild K einer Polynomfunktion f 4. Grades der Form $f(x) = x^4 + bx^3 + cx^2 + 1$ verläuft durch die Punkte $A(1|0)$ und $B(-1|2)$.

Bestimmen Sie b, c und den Funktionsterm.

Lösung

Ansatz für den Funktionsterm:

$$f(x) = x^4 + bx^3 + cx^2 + 1$$

Punktprobe mit $B(1|0)$: $f(1) = 0$

$$1 + b + c + 1 = 0$$

mit $C(-1|2)$: $f(-1) = 2$

$$1 - b + c + 1 = 2$$

Vereinfachung ergibt ein LGS für b und c :

$$b + c = -2$$

$$-b + c = 0$$

Auflösung durch Addition:

$$2c = -2$$

$$c = -1$$

Einsetzen von $c = -1$ in z. B. $b + c = -2$ ergibt

$$b = -1$$

Gesuchter Funktionsterm: $f(x) = x^4 - x^3 - x^2 + 1$

Beispiel 5

➔ Der Graph einer Polynomfunktion 3. Grades schneidet die x -Achse in $-3, -1$ und 1 und die y -Achse in -2 . Bestimmen Sie den zugehörigen Funktionsterm $f(x)$.

Lösung

Da alle drei Nullstellen von f bekannt sind,

$$x_1 = -3, x_2 = -1, x_3 = 1$$

wählt man die Produktform als Ansatz:

$$f(x) = a(x + 3)(x + 1)(x - 1)$$

Punktprobe mit $P(0|-2)$

$$f(0) = -2$$

$$-2 = a \cdot 3 \cdot 1 \cdot (-1)$$

ergibt a :

$$a = \frac{2}{3}$$

Gesuchter Funktionsterm:

$$f(x) = \frac{2}{3}(x + 3)(x + 1)(x - 1)$$

Beispiel 6

- Die Wertetabelle gehört zur Funktion f mit $f(x) = a(x - x_1)(x - x_2)^2$. Ermitteln Sie a , x_1 und x_2 . Geben Sie den Funktionsterm $f(x)$ an.

X	Y1
-1	0
0	8
1	4
2	0
3	8

Lösung

Aus der Wertetabelle: $x_1 = -1$ ist einfache Nullstelle;

$x_2 = 2$ ist doppelte Nullstelle (ohne VZW)

Punktprobe mit $P(0|8)$ ($f(0) = 8$) ergibt a: $8 = a \cdot 1 \cdot (-2)^2$ $a = 2$

Gesuchter Funktionsterm: $f(x) = 2(x + 1)(x - 2)^2$

Beispiel 7

- Der Graph einer Polynomfunktion 4. Grades verläuft symmetrisch zur y -Achse und durch die Punkte $A(0|4)$, $B(2|2)$ und $C(1|\frac{25}{8})$. Bestimmen Sie einen zugehörigen Funktionsterm.

Lösung

Wegen der gegebenen Symmetrie zur y -Achse gilt $f(x) = ax^4 + cx^2 + e$ ($b = 0$ und $d = 0$). Im Funktionsterm kommen nur gerade Hochzahlen von x vor.

Mit $A(0|4)$ ergibt sich als Ansatz die vereinfachte Form $f(x) = ax^4 + cx^2 + 4$.

Punktprobe mit den Punkten B und C ergibt ein LGS für die Unbekannten a und c .

Punkt	Bedingung	Gleichung
$B(2 2)$	$f(2) = 2$	$16a + 4c + 4 = 2$
$C(1 \frac{25}{8})$	$f(1) = \frac{25}{8}$	$a + c + 4 = \frac{25}{8}$

(2; 2)-LGS:

$$\begin{aligned} 16a + 4c &= -2 \\ a + c &= -\frac{7}{8} \end{aligned} \quad \leftarrow \cdot (-4)$$

Addition ergibt:

$$12a = \frac{3}{2} \quad a = \frac{1}{8}$$

Einsetzen in $a + c = -\frac{7}{8}$ ergibt:

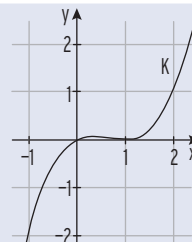
$$\frac{1}{8} + c = -\frac{7}{8} \quad c = -1$$

Funktionsterm:

$$f(x) = \frac{1}{8}x^4 - x^2 + 4$$

Beispiel 8

- K ist das Schaubild einer Polynomfunktion 3. Grades. Ermitteln Sie die Gleichung von K .



Lösung

Durch Ablesen: $x_1 = 0$ ist einfache Nullstelle, $x_{2|3} = 1$ ist doppelte Nullstelle

Ansatz für die Gleichung von K : $y = ax(x - 1)^2$

Punktprobe mit $P(2|1)$ ($f(2) = 1$) ergibt a: $1 = a \cdot 2 \cdot (2 - 1)^2$ $a = \frac{1}{2}$

Gesuchte Gleichung: $y = \frac{1}{2}x(x - 1)^2$

Aufgaben

- 1 Ermitteln Sie die Gleichung der Parabel, wenn Folgendes bekannt ist:
 - a) Die Parabel verläuft durch die Punkte $A(1|2,5)$, $B(-2|1)$ und $C(0|3)$.
 - b) $A(2|0)$, $B(-1|6)$ und $C(0|0)$ sind Parabelpunkte.
 - c) Eine Parabel hat den Scheitel $S(1|4)$ und verläuft durch den Ursprung.
 - d) Eine Parabel verläuft symmetrisch zur y -Achse durch die Punkte $A(1|0)$ und $B(0|-3)$.

- 2 Das Schaubild einer Funktion f mit $f(x) = x^3 + bx^2 + cx - 4$ verläuft durch die Punkte $A(1|-1,5)$ und $B(2|-2)$. Bestimmen Sie b und c .

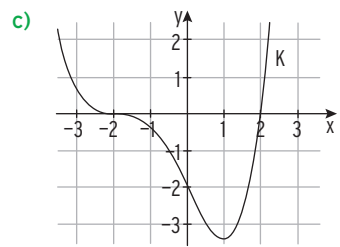
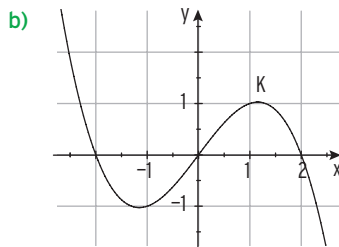
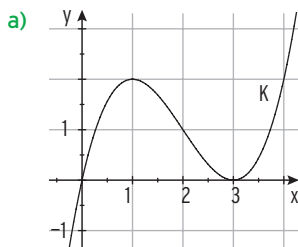
- 3 Für eine quadratische Funktion f gilt $f(0) = -4$; $f(2) = -4$ und $f(4) = -8$. Bestimmen Sie $f(x)$.

- 4 Eine Polynomfunktion 3. Grades hat die Nullstellen $x_1 = -1$, $x_2 = 1$, $x_3 = -10$.
 - a) Bestimmen Sie einen möglichen Funktionsterm, wenn der zugehörige Graph vom II. in den IV. Quadranten verläuft?
 - b) Der Graph von f verläuft zusätzlich durch den Punkt $P(2|6)$. Bestimmen Sie $f(x)$.

- 5 Der Graph K einer Polynomfunktion f 3. Grades ist symmetrisch zum Ursprung und verläuft durch $P(6|5,5)$ und $R(3|0,5)$. Bestimmen Sie einen Funktionsterm. Zeigen Sie, dass es ein t gibt, sodass K der Graph von g mit $g(x) = tx^3 - 3tx$ ist.

- 6 Der Graph einer Funktion f mit $f(x) = x^3 + bx^2 + 4x + d$ schneidet die 1. Winkelhalbierende an den Stellen $x_1 = -1$ und $x_2 = 2$. Bestimmen Sie b und d .

- 7 Bestimmen Sie einen Funktionsterm mithilfe der Zeichnung.

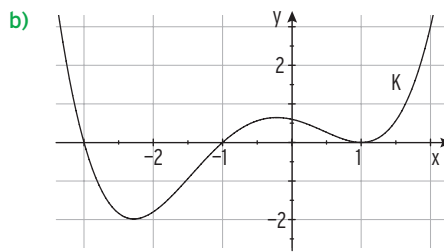
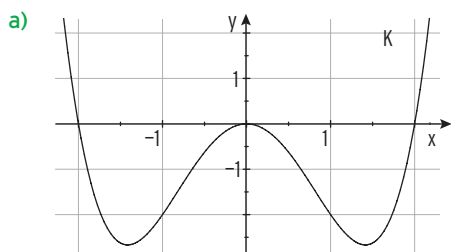


- 8 Das Schaubild einer Polynomfunktion f 3. Grades verläuft symmetrisch zum Ursprung und schneidet die x -Achse in $x = 3$. Welche Beziehung besteht zwischen den Koeffizienten in $f(x) = ax^3 + cx$? Bestimmen Sie $f(x)$, wenn $f(1) = 4$ ist.

- 9 Das Schaubild einer Funktion f mit $f(x) = \frac{2}{3}x^4 - \frac{1}{6}x^3 + cx^2 + dx$ geht durch die Punkte $B(1|2,5)$ und $C(-2|-14)$. Ermitteln Sie c und d .

- 10** Eine Polynomfunktion 5. Grades hat eine dreifache Nullstelle bei $x = 1$ und eine doppelte Nullstelle bei $x = 4$. Skizzieren Sie einen möglichen Graphen und geben Sie den zugehörigen Funktionsterm an.
- 11** Der Funktionsterm hat die Form $f(x) = a(x - x_1)(x - x_2)^3$. Der Graph von f verläuft durch $N(1|0)$, $P(3|0)$ und $Q(0|-3)$. Geben Sie einen möglichen Funktionsterm an.
- 12** Ein zur y -Achse symmetrisches Schaubild einer Polynomfunktion f 4. Grades verläuft durch die Punkte $A(0|2)$; $B(-2|0)$ und $C(1|2)$. Berechnen Sie einen Funktionsterm.
- 13** Das Schaubild der Funktion f mit $f(x) = ax^4 + cx^2$ geht durch den Punkt $N(2|0)$. Welche Beziehung besteht zwischen den Koeffizienten a und c ? Bestimmen Sie a und c so, dass das Schaubild der zugehörigen Funktion zusätzlich durch den Punkt $P(1|2)$ verläuft.

14 Bestimmen Sie einen Funktionsterm mithilfe der Abbildung.



15 Das Schaubild einer Polynomfunktion 4. Grades hat nur die Punkte $A_{1|2}(\pm 1|0)$ mit der x -Achse gemeinsam und geht durch $B(0|2)$. Ermitteln Sie einen möglichen Funktionsterm. Erläutern Sie Ihren Ansatz.

16 Die Abbildung zeigt die Wertetabelle für eine Polynomfunktion f 4. Grades. Welche Eigenschaft hat das Schaubild von f ? Bestimmen Sie einen möglichen Funktionsterm.

x	y
-1	1.25
-0.5	1.7656
0	2
0.5	1.7656
1	1.25

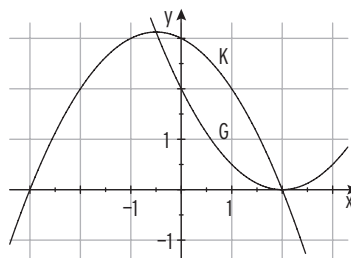
17 Das Schaubild einer Polynomfunktion f 4. Grades ist symmetrisch zur y -Achse und schneidet die y -Achse in $S(0|3)$. Bestimmen Sie den Funktionsterm einer Funktion f , die keine Nullstellen, 2 Nullstellen bzw. 4 Nullstellen besitzt.



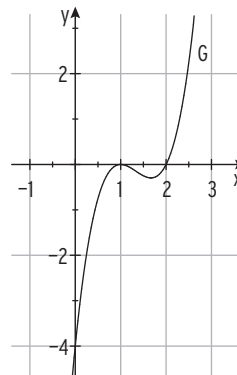
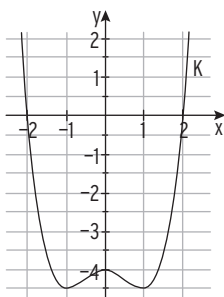
18 Zwei Ingenieure planen den Bau eines Wasserkanals. In ihrer Modellrechnung setzen sie für den Kanalquerschnitt ein x - y -Koordinatensystem so an, dass die x -Achse genau auf der Höhe des normalen Wasserstandes (Normalpegel) verläuft. Eine Längeneinheit entspricht einem Meter. In der Mitte ist der Kanal 3,2 m tief, ein Meter neben der Mitte 3,1875 m und einen weiteren Meter neben der Mitte 3 m tief. Bestimmen Sie die Randkurve des Kanalquerschnitts unterhalb des Normalpegels. Wie breit ist der Kanal?

Test zur Überprüfung Ihrer Grundkenntnisse

- 1 Bestimmen Sie die Parabelgleichungen aus der Abbildung.



- 2 Bestimmen Sie einen möglichen Funktionsterm.




- 3 Das Schaubild einer Polynomfunktion 3. Grades ist symmetrisch zum Ursprung und verläuft durch die Punkte $A(-1 | -2)$ und $B(2 | -2)$. Bestimmen Sie einen möglichen Funktionsterm.
- 4 Eine Polynomfunktion f 4. Grades hat die doppelten Nullstellen -3 und 1 . Das Schaubild von f verläuft durch den Punkt $A(-2 | 4)$. Bestimmen Sie $f(x)$.
- 5 Der Graph einer Polynomfunktion f 4. Grades verläuft symmetrisch zur y -Achse durch die Punkte $A(-2 | -3)$, $B(0 | -3)$ und $C(1 | -3,75)$. Formulieren Sie die Bedingungen und stellen Sie das zugehörige lineare Gleichungssystem auf.
- 6 Gegeben ist die Funktion f mit $f(x) = x^3 - 2x + c$. Für welchen Wert von c verläuft der Graph von f durch $P(2 | 3)$? Bestimmen Sie c so, dass der Graph von f symmetrisch zu $S(0 | -2)$ ist.

3.5.2 Optimierungsprobleme

Beispiel 1

➔ Das Gestüt Allgäu will eine rechteckige Pferdekoppel einzäunen. Es hat 150 m Zaunmaterial zur Verfügung, um eine möglichst große Fläche einzuzäunen.



Lösung

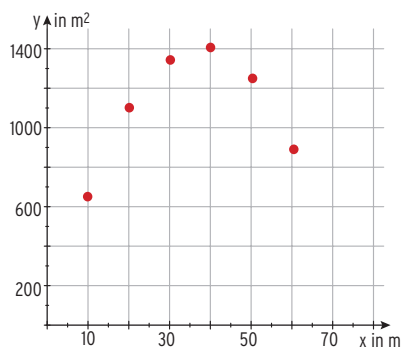
Vorüberlegungen

Man berechnet den Flächeninhalt verschiedener Rechtecke mit den Seiten a und b.

Seitenlängen (in m): Flächeninhalt (in m²):

$a + b = 75$	$A = a \cdot b$
$a = 10; b = 65$	$A = 650$
$a = 20; b = 55$	$A = 1100$
$a = 30; b = 45$	$A = 1350$
$a = 40; b = 35$	$A = 1400$
$a = 50; b = 25$	$A = 1250$

Punkte in ein Koordinatensystem eintragen.
Die Punkte könnten auf einer Parabel liegen.



Zielfunktion mit Definitionsbereich

Es gilt: $a + b = 75$
 $b = 75 - a$

Durch Einsetzen erhält man den Flächeninhalt

$$A(a) = a \cdot (75 - a)$$

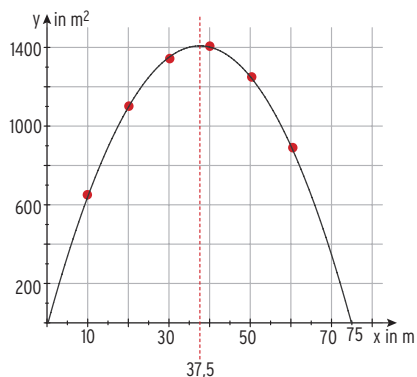
$$A(a) = 75a - a^2.$$

Die Variable a kann alle reellen Zahlen von 0 bis 75 annehmen.

Verbindet man die Punkte, so erhält man das

Schaubild der quadratischen Funktion A

mit $A(x) = 75x - x^2$; $0 \leq x \leq 75$.



Maximaler Flächeninhalt

Symmetrieachse: $x = \frac{75}{2} = 37,5$

$$A_{\max} = A(37,5) = 1406,25$$

Der größte Flächeninhalt von 1406,25 m² wird erreicht bei einem Quadrat mit der Seitenlänge 37,5 m.

Hinweis: Das Rechteck mit dem größten Flächeninhalt ist ein Quadrat.



mvurl.de/3xhy

Beispiel 2

➡ In einer Unternehmung lassen sich die Gesamtkosten für die Herstellung einer Mengeneinheit (ME) und der Verkaufserlös in Geldeinheiten (GE) darstellen durch die Funktionen K mit $K(x) = 2x^2 + 4x + 24$ und E mit $E(x) = 20x$; $x \geq 0$, x in ME, $K(x)$; $E(x)$ in GE.

Ermitteln Sie den maximalen Gewinn.

Lösung

Zielfunktion mit Definitionsbereich

Für den Gewinn gilt: Gewinn = Erlös – Gesamtkosten

$$\begin{aligned} G(x) &= E(x) - K(x) \\ &= 20x - (2x^2 + 4x + 24) \end{aligned}$$

Gewinnfunktion G mit $G(x) = -2x^2 + 16x - 24$; $x \geq 0$

Maximaler Gewinn

Der maximale Gewinn wird erzielt, wenn die Gewinnkurve ihren Scheitelpunkt hat.

Berechnung mithilfe der Nullstellen: $G(x) = 0 \quad -2x^2 + 16x - 24 = 0$

Mit $a = -2$, $b = 16$ und $c = -24$:

$$x_{1|2} = \frac{-16 \pm \sqrt{16^2 - 4 \cdot (-2) \cdot (-24)}}{2 \cdot (-2)}$$

$$x_{1|2} = \frac{-16 \pm \sqrt{64}}{-4} = \frac{-16 \pm 8}{-4}$$

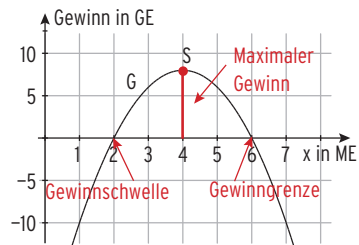
$$x_1 = \frac{-16 + 8}{-4} = 2$$

$$x_2 = \frac{-16 - 8}{-4} = 6$$

Nullstellen von G:

Skizze:

Die Gewinnkurve ist eine nach unten geöffnete Parabel.



Den maximalen Gewinn erhält man mithilfe des Scheitelpunkts der Gewinnkurve. Der x_S -Wert des Scheitelpunkts ist der

Mittelwert der Nullstellen von G.

$$x_S = \frac{x_1 + x_2}{2} = \frac{2 + 6}{2} = 4$$

y_S -Wert des Scheitelpunkts:

$$y_S = G(x_S) = G(4) = 8$$

Scheitelpunkt:

$$S(4 | 8)$$

Der maximale Gewinn beträgt 8 GE.

Alternative:

x-Koordinate des Scheitelpunkts mithilfe

$$x_S = -\frac{b}{2a}$$

$$x_S = -\frac{16}{2 \cdot (-2)} = 4$$

$f(x) = ax^2 + bx + c$
Scheitelstelle $x_S = -\frac{b}{2a}$

Scheitelpunkt:

$$S(4 | 8)$$

Der maximale Gewinn beträgt 8 GE.

Beispiel 3

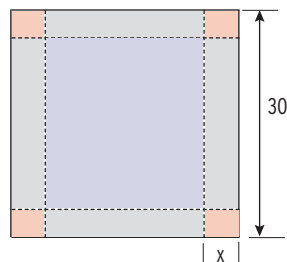
- ➔ Zur Lagerung von Soda soll Karla aus einem quadratischen Karton der Seitenlänge 30 cm durch Falten eine Schachtel ohne Deckel formen. Bestimmen Sie das maximale Volumen dieser Schachtel. Wieviel kg Soda können maximal darin gelagert werden?



Lösung

Zielfunktion mit Definitionsbereich

x: Höhe der Schachtel in cm
 $V(x)$: Volumen der Schachtel in cm^3
 Für $0 \leq x \leq 15$ ergibt sich $V(x) = (30 - 2x)^2 \cdot x$
 Dieser Funktionsterm beschreibt das Volumen V in Abhängigkeit von der Höhe x .
 V ist eine Polynomfunktion 3. Grades.



Maximales Volumen

Mithilfe einer Wertetabelle:

x	Y1
2	1352
3	1728
4	1936
5	2000
6	1944
7	1792
8	1568

Verfeinerte Wertetabelle:

x	Y1
4.9	1999.3
5	2000
5.1	1999.4
5.2	1997.6

Wählt Karla die Höhe 5 cm, hat die Schachtel ein maximales Volumen von 2000 cm^3 .

Soda hat ein spezifisches Gewicht von $\rho = 2,218 \frac{\text{g}}{\text{cm}^3}$,

Für das Volumen gilt: $V = \frac{m}{\rho}$

Für die Masse m gilt: $m = \rho \cdot V$

$$m = 2,218 \frac{\text{g}}{\text{cm}^3} \cdot 2000 \text{ cm}^3$$

$$m = 4436 \text{ g} = 4,436 \text{ kg}$$

In der Schachtel mit maximalem Volumen können 4,436 kg Soda gelagert werden.



4.4 Exponentialfunktionen zur Basis e

In den Naturwissenschaften, in der Technik und in den Wirtschaftswissenschaften sind die **Exponentialfunktionen** von überragender Bedeutung. Dabei spielt die **Basis e** eine besondere Rolle: $e = 2,718281828\dots$

Die **Exponentialfunktion zur Basis e** ist die Funktion f mit **$f(x) = e^x$** ; $x \in \mathbb{R}$.

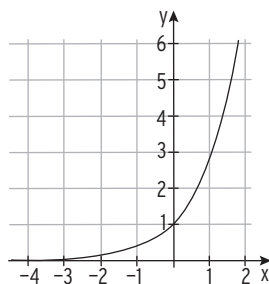
Viele mathematische Probleme können mit einer Exponentialfunktion zur Basis e (e-Funktion) beschrieben werden.

Untersuchung der Exponentialfunktion f mit $f(x) = e^x$; $x \in \mathbb{R}$

Wertetabelle

Graph von f

x	$y = e^x$
-2	0.1353
-1	0.3678
0	1
1	2.7182



Eigenschaften

- Das zugehörige Schaubild verläuft oberhalb der x -Achse: $e^x > 0$.
Es gibt keine Schnittpunkte mit der x -Achse.
- Globales Verhalten für $x \rightarrow \pm \infty$
Für $x \rightarrow -\infty$ gilt: $f(x) = e^x \rightarrow 0$
Die x -Achse ist waagrechte Asymptote.
Für $x \rightarrow \infty$ gilt: $f(x) = e^x \rightarrow \infty$
- $S(0|1)$ liegt auf dem Graphen, denn $e^0 = 1$.
- Der Graph von f verläuft steigend.
 f ist (streng) monoton wachsend.



Seite 216

Potenzwerte: $e^0 = 1$
 $e = e^1 \approx 2,718$
 $e^{10} \approx 22\,026$
 $e^{-10} \approx 4,5 \cdot 10^{-5}$
 $e^{-1} = \frac{1}{e} \approx 0,368$

e^0	1
e^1	2,718281828
e^{-1}	0,3678794412

4.5 Transformationen

K ist der Graph der Funktion f mit $f(x) = e^x$.



Spiegelung an der y-Achse

Spiegelung von K an der y-Achse ergibt den Graphen G von g.

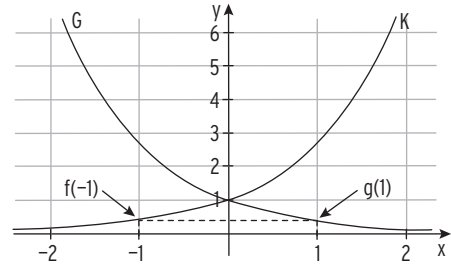
$$g(1) = f(-1) = e^{-1}$$

$$g(2) = f(-2) = e^{-2}$$

$$g(x) = f(-x) = e^{-x}$$

Der Funktionsterm von g

lautet: $g(x) = e^{-x}$

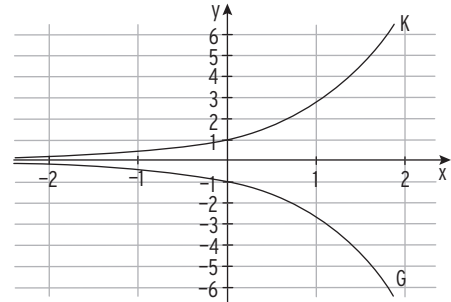


Hinweis: Bei der Spiegelung des Graphen von f an der y-Achse ersetzt man x durch $-x$.

Andere Schreibweise für den Term: $g(x) = e^{-x} = \frac{1}{e^x} = \frac{1^x}{e^x} = \left(\frac{1}{e}\right)^x$

Spiegelung an der x-Achse

Spiegelung von K an der x-Achse ergibt den Graphen G von g mit $g(x) = -f(x) = -e^x$.



Streckung in y-Richtung

Für $a > 0$

Streckung von K in y-Richtung mit Faktor a ergibt den Graphen von g mit $g(x) = a \cdot e^x$.

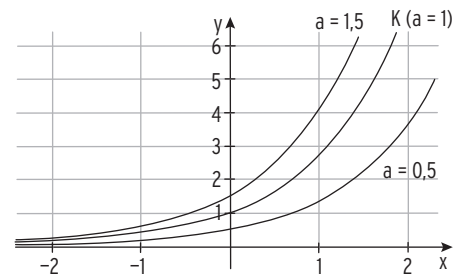
Für $a = 1,5$: $g(x) = 1,5 \cdot e^x$

Streckungsfaktor 1,5

Für $a = 0,5$: $g(x) = 0,5 \cdot e^x$

Streckungsfaktor 0,5

Die x-Achse ist waagrechte Asymptote.



Für $a < 0$

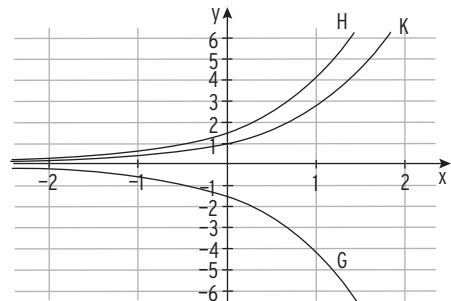
zusätzlich eine Spiegelung an der x-Achse

Graph K: $f(x) = e^x$

Streckung mit Faktor 1,5: $h(x) = 1,5e^x$

Spiegelung an der x-Achse: G: $g(x) = -1,5e^x$

Die x-Achse ist waagrechte Asymptote.

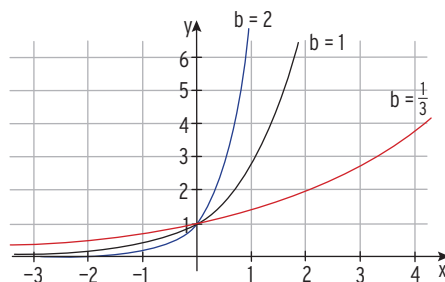


Streckung in x-Richtung

Streckung von K in x-Richtung
mit Faktor $\frac{1}{b}$ ($b > 0$) ergibt den Graphen
von g mit $g(x) = e^{bx}$

Für $b = 2$: $g(x) = e^{2x}$
Streckung in x-Richtung mit Faktor $\frac{1}{2}$.

Für $b = \frac{1}{3}$: $g(x) = e^{\frac{1}{3}x}$
Streckung in x-Richtung mit Faktor 3.



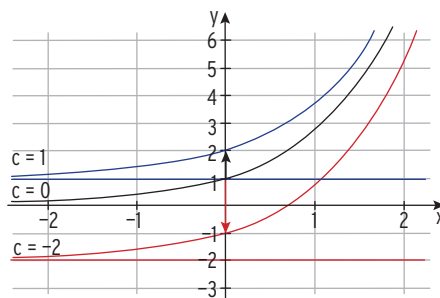
Verschiebung in y-Richtung

Verschiebung von K um c in y-Richtung
ergibt den Graphen von g mit $g(x) = e^x + c$

Für $c = 1$: $g(x) = e^x + 1$
Verschiebung um 1 nach oben.

Für $c = -2$: $g(x) = e^x - 2$
Verschiebung um 2 nach unten.

Die Gerade mit der Gleichung $y = c$ ist
waagrechte Asymptote.



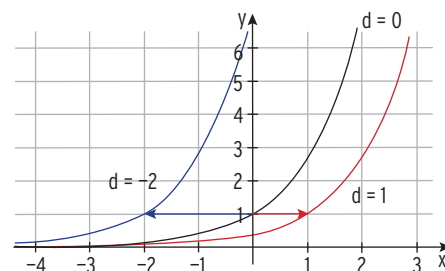
Verschiebung in x-Richtung

Verschiebung von K in x-Richtung
ergibt den Graphen von g mit $g(x) = e^{x-d}$

Für $d = 1$: $g(x) = e^{x-1}$
Verschiebung um 1 nach rechts
x durch $x - 1$ ersetzen.

Für $d = -2$: $g(x) = e^{x+2}$
Verschiebung um 2 nach links
x durch $x + 2$ ersetzen.

Die x-Achse ist waagrechte Asymptote.



Hinweis: $g(x) = e^{x+2} = e^2 \cdot e^x$

Die Verschiebung von K um 2 nach links entspricht einer Streckung von K
mit Faktor e^2 in y-Richtung.

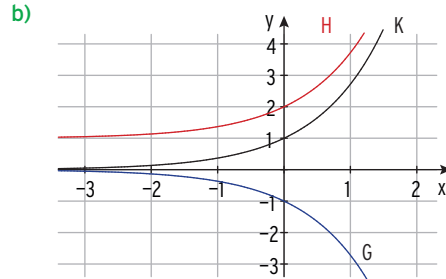
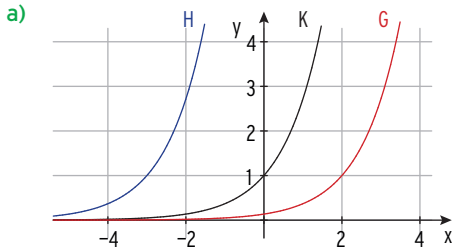
Transformationen

Der Graph von g entsteht aus dem Graphen von f mit

- durch Spiegelung an der y-Achse: $f(x) = e^x$
 $g(x) = e^{-x}$
- durch Spiegelung an der x-Achse: $g(x) = -e^x$
- durch Streckung in y-Richtung mit Faktor a ($a > 0$):
für $a < 0$ zusätzlich durch Spiegelung an der x-Achse $g(x) = a \cdot e^x$
- durch Streckung in x-Richtung mit Faktor $\frac{1}{b}$ ($b > 0$):
für $b < 0$ zusätzlich durch Spiegelung an der y-Achse $g(x) = e^{bx}$
- durch Verschiebung um c in y-Richtung: $g(x) = e^x + c$
- durch Verschiebung um d in x-Richtung: $g(x) = e^{x-d}$

Aufgaben

- 1 Gegeben ist der Graph K der Funktion f mit $f(x) = e^x$. Die beiden Kurven G und H entstehen aus K. Bestimmen Sie die zugehörigen Funktionsterme.

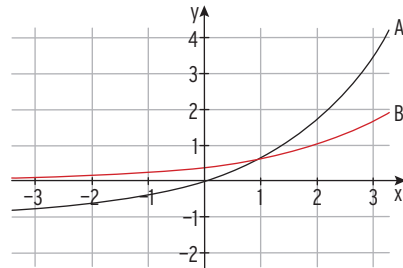


- 2 K ist der Graph der Funktion f mit $f(x) = e^x$. Durch Abbildung von K entsteht das Schaubild der Funktion g mit $g(x) = ae^{bx} + c$. Bestimmen Sie a und b , wenn es sich um eine
- Verschiebung um 3 nach oben,
 - Spiegelung an der x -Achse,
 - Streckung in y -Richtung mit dem Faktor 0,5 und eine Verschiebung um 6 nach unten,
 - Verschiebung um 2 nach rechts handelt.
- Welche gemeinsame Eigenschaft haben alle Kurven?

- 3 Wie entsteht das Schaubild G von g aus dem Schaubild K von f mit $f(x) = e^x$?

- a) $g(x) = e^{3x}$ b) $g(x) = 3e^{\frac{1}{2}x} + 1$ c) $g(x) = -\frac{1}{5}e^{x-1} - 2$

- 4 Die Abbildung zeigt Ausschnitte aus den Schaubildern der Funktionen f mit $f(x) = e^{0,5x} - 1$ und g mit $g(x) = e^{0,5x} - 1$; $x \in \mathbb{R}$. Ordnen Sie jedem Schaubild einen Funktionsterm zu und begründen Sie Ihre Entscheidung.



- 5 Die Funktion f mit $f(x) = e^{-x}$; $x \in \mathbb{R}$, hat das Schaubild K. Durch Verschiebung von K um 1 nach oben entsteht G, durch Verschiebung von K um 1 nach links entsteht H. Wie lauten die Gleichungen der Graphen G und H?

4.9.3 Beschränktes Wachstum

Beispiel

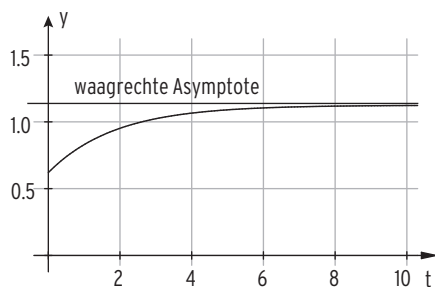
- Die Höhe einer Bergkiefer zur Zeit t kann näherungsweise durch eine Funktion f mit $f(t) = a + b \cdot e^{-0,536t}$; $t \geq 0$, beschrieben werden. Dabei ist t die Zeit in Wochen seit dem Beginn der Beobachtung und $f(t)$ die Höhe in Meter.
- Zu Beginn der Beobachtung war die Pflanze 0,62 m hoch. Nach 5 Wochen hat sie eine Höhe von 1,09 m.
- Bestimmen Sie a und b . Zeichnen Sie das Schaubild von f .
 - Wie hoch kann die Pflanze höchstens werden?

Lösung

- a) Ansatz: $f(0) = 0,62$ $a + b = 0,62$ LGS: $a + b = 0,62$
 $f(5) = 1,09$ $a + b \cdot e^{-0,536 \cdot 5} = 1,09$ $a + 0,06856b = 1,09$
 $a = 1,12$; $b = -0,5$

Lösung des linearen Gleichungssystems:
 Funktionsterm: $f(t) = 1,12 - 0,5 \cdot e^{-0,536t}$

- b) Schaubild von f : $f(t) \rightarrow 1,12$ für $t \rightarrow \infty$
 Das Schaubild von f hat die waagrechte Asymptote mit der Gleichung $y = 1,12$. Die Pflanze kann höchstens 1,12 m hoch werden, wenn die Funktion f die Höhe der Pflanze richtig beschreibt.
 Es gibt eine natürliche Schranke $S = 1,12$. S heißt Sättigungsgrenze. Man spricht von einem beschränkten Wachstum.



Prozesse beschränkten Wachstums bzw. Zerfalls können mithilfe einer Exponentialfunktion beschrieben werden.

Beschränktes Wachstum:

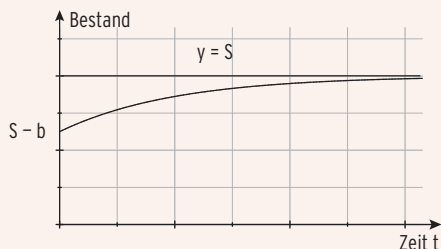
$$f(t) = S - b \cdot e^{kt}; \quad t \geq 0, \quad k < 0, \quad b > 0$$

$$\text{Anfangsbestand: } f(0) = S - b$$

k ist die Wachstums- oder Zerfallskonstante: k ist stets negativ.

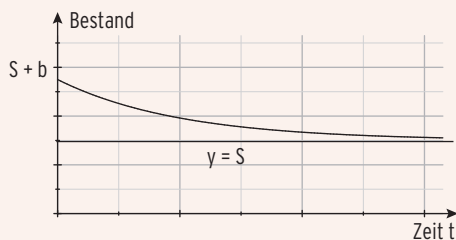
$f(t)$ gibt den vorhandenen Bestand zum Zeitpunkt t an.

S heißt Sättigungsgrenze.

**Beschränkter Zerfall:**

$$f(t) = S + b \cdot e^{kt}; \quad t \geq 0, \quad k < 0, \quad b > 0$$

$$\text{Anfangsbestand: } f(0) = S + b$$



Aufgaben

- 1** Eine Funktion f mit $f(t) = 500 - 300 \cdot e^{-0,036t}$; $t \geq 0$ beschreibt die Population von Mäusen in Abhängigkeit von der Zeit t ($t = 0$: Beginn der Messung; t in Jahren).
- a) Geben Sie die Anzahl der Mäuse zu Beginn der Messung sowie den möglichen Maximalbestand an.
- b) Nach 50 Jahren sind 90% des Maximalbestandes erreicht. Nehmen Sie Stellung.



- 2** Eine Flüssigkeit wird auf 90 °C erhitzt. Dann lässt man sie bei einer Umgebungstemperatur von 20 °C abkühlen.
- a) Bei diesem Experiment erhält man folgende Messreihe:

t in Minuten	0	1	2	3	4	5	6	7
Temperatur in °C	90	58	40	31	26	22	22	21



- Stellen Sie die Messdaten in einem Koordinatensystem dar.
 - Diskutieren Sie, ob sich die Daten linear verhalten. Begründen Sie Ihre Antwort.
 - Untersuchen Sie, ob die Funktion f mit $f(t) = 2,30t^2 - 24,68t + 84,92$ das Experiment beschreibt. Zeichnen Sie die Kurve in das Koordinatensystem ein.
 - Bestimmen Sie mithilfe der Messwerte eine Exponentialfunktion, die die Flüssigkeitstemperatur in Abhängigkeit von der Zeit beschreibt. Die Umgebungstemperatur wird nicht unterschritten.
Zeichnen Sie das Schaubild der Exponentialfunktion in das gemeinsame Koordinatensystem ein. Vergleichen Sie die beiden Näherungskurven.
- b)** In eine Tasse wird 90 °C heißer Tee eingeschenkt. Der Tee kühlt auf die Zimmertemperatur von 20 °C ab. Die Funktion h mit $h(t) = 20 + 70 \cdot 0,8^t$ beschreibt diesen Abkühlvorgang. Dabei ist t die Zeit in Minuten und $h(t)$ die Temperatur in °C.
- Berechnen Sie die Zeit, die vergeht, bis der Tee auf die Trinktemperatur (50 °C) abgekühlt ist.
 - Ermitteln Sie die durchschnittliche Abkühlung pro Minute in den ersten zehn Minuten und in den folgenden zehn Minuten.

- 3** Der weltweite CO_2 -Ausstoß von Kraftfahrzeugen soll beschrieben werden durch h mit $h(t) = 34,8 - e^{2,66 - 0,035t}$; t in Jahren, $t = 0$ entspricht dem Jahr 1990, $h(t)$ in 10^9 Tonnen.
- a) Beschreiben Sie den Verlauf des Graphen von h . Interpretieren Sie $h(t)$ im Sachzusammenhang.
- b) Bestimmen Sie den CO_2 -Ausstoß in den Jahren 2010 und 2030.



- 4** Die Entwicklung der Biomasse eines Gehölzbestandes in Abhängigkeit von der Zeit kann durch den Funktionsterm $g(t) = a - 10 \cdot e^{-kt}$; $t \geq 0$; $a, k > 0$, näherungsweise beschrieben werden. Dabei ist $g(t)$ die Maßzahl der Biomasse in 10^2 Tonnen und t die Maßzahl der Zeit in Jahren.
- Die Parameter a und k sind Konstanten, die u.a. von der Gehölzart und den klimatischen Bedingungen abhängen. Die Biomasse zu bestimmten Zeiten ist in der Tabelle angegeben:



Zeit t in Jahren	0	10
Biomasse in 10^2 Tonnen	10	16,321

- a) Berechnen Sie den jeweiligen Wert von a und k und bestimmen Sie einen Funktionsterm $g(t)$ für die Biomasse. (Teilergebnis zur Kontrolle: $k = 0,1$)
- b) Für $t \rightarrow \infty$ strebt die Biomasse gegen einen „Grenzwert“. Bestimmen Sie diesen Wert.
- c) Der Bestand soll wirtschaftlich verwertet werden, wenn die Biomasse 95 % dieses „Grenzwertes“ erreicht hat. Berechnen Sie die Zeit bis zur Verwertung.
- 5** Das Newton'sche Abkühlungsgesetz $T(t) = T_U + (T_0 - T_U) \cdot e^{kt}$ beschreibt den Temperaturverlauf eines auf die Temperatur T_0 erwärmten Körpers, der z. B. durch eine Umgebung mit konstanter Temperatur T_U abgekühlt wird. $T(t)$ ist die momentane Temperatur (in $^\circ\text{C}$) zur Zeit t (in Min.) mit $t \geq 0$.
- a) Bei einer Umgebungstemperatur von 20°C hat sich der Körper von anfangs 80°C in den ersten 30 Minuten auf $24,7^\circ\text{C}$ abgekühlt. Bestimmen Sie k auf drei Dezimalen gerundet. (Kontrollergebnis: $k = -0,085$)
- b) Zeichnen Sie das Schaubild von T . Beschreiben Sie den Verlauf. Welche Bedeutung hat die Asymptote?
- c) Nach welcher Zeit ist die Temperatur um 30°C abgesunken?
- d) Ab der 19. Minute nimmt die Temperatur des Körpers für dieses k in einer Minute um weniger als ein Grad ab. Bestätigen Sie diese Behauptung.

Test zur Überprüfung Ihrer Grundkenntnisse

1 Lösen Sie folgende Gleichungen.

a) $e^{x-4} = 2$

b) $e^x = 2e^{-x}$

c) $\left(2 + \frac{3}{2}x\right)e^{x+1} = 0$

2 Stellen Sie die Zahl 2 als Potenz mit der Basis e dar.

3 Untersuchen Sie das Schaubild K der Funktion f auf Achsenschnittpunkte und auf Asymptoten. Skizzieren Sie K.

a) $f(x) = e^{-2x} - 5$

b) $f(x) = e^x - \frac{1}{2}x$

c) $f(x) = \frac{1}{5} \cdot 2^x - 4$

4 Der Graph der Funktion f mit $f(x) = e^{2x}$; $x \in \mathbb{R}$, wird abgebildet.

Dadurch entsteht ein neuer Graph G der Funktion g. Geben Sie den Funktionsterm $g(x)$ an, wenn es sich um folgende Transformationen handelt.

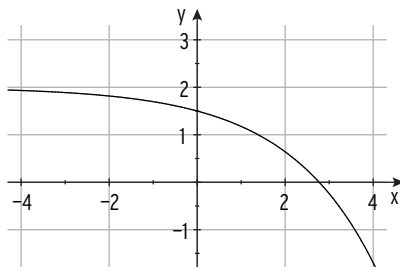
a) Spiegelung an der y-Achse.

b) Streckung in y-Richtung mit Faktor 3 und Verschiebung um 4 nach unten.

c) Verschiebung um 4 nach rechts und Spiegelung an der x-Achse.

5 Der Graph von g mit $g(x) = ae^{-x} + b$ verläuft durch die Punkte A (0|4) und B(1|2). Bestimmen Sie a und b.

6 Die Abbildung zeigt das Schaubild einer Funktion, die zum Typ $f(x) = ae^{kx} + b$ gehört. Machen Sie Aussagen über a, b und k.



7 Gegeben sind die Funktionen f und g durch $f(x) = -2e^{-x} + 4$ und $g(x) = 2e^x$; $x \in \mathbb{R}$.

Wie liegen die Schaubilder von f und g zueinander?

Begründen Sie Ihre Antwort durch eine Rechnung.

8 Am 01.01.2009 lebten etwa 6,8 Milliarden Menschen auf der Erde. In welchem Jahr überschreitet die Erdbevölkerung die 10-Milliarden-Grenze, wenn man ein jährliches Wachstum von 1,8% unterstellt?

Nach Berechnungen der Vereinten Nationen sollen bis 2050 etwa 9,1 Milliarden auf der Erde leben. Vergleichen Sie.

5.2 Grafisches Differenzieren

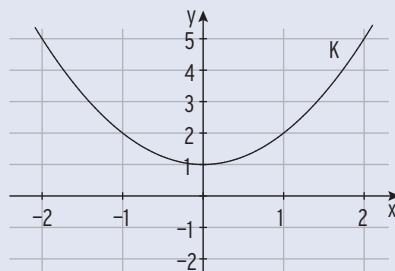
Beim grafischen Differenzieren bestimmt man die Steigung eines Schaubildes in einem Punkt mithilfe einer Zeichnung.

Führt man dieses Verfahren mit mehreren Punkten durch, lässt sich das Schaubild der „Steigungsfunktion“ von f skizzieren. Diese Funktion heißt Ableitungsfunktion von f und wird mit f' bezeichnet.



Beispiel 1

- ➔ Gegeben ist das Schaubild K einer Funktion f .
Bestimmen Sie durch zeichnerisches Differenzieren die Ableitung von f in $x = -2; -1; 0; 1; 2$.
Tragen Sie die Steigungswerte in ein Koordinatensystem ein.



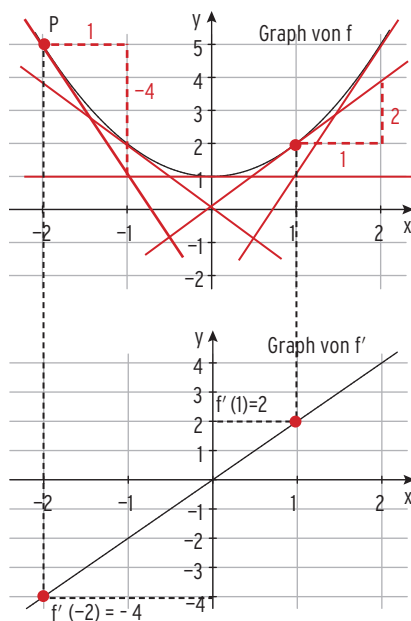
Lösung

Im Punkt $P(-2 | f(-2))$ wird die Tangente an K gelegt und die Steigung aus der Zeichnung bestimmt: $m = -4$ (Steigungsdreieck). Dieses zeichnerische Verfahren wendet man auf weitere Punkte an. Tabelle mit den so erhaltenen Steigungswerten.

x	-2	-1	0	1	2
$f'(x)$ (Steigung)	-4	-2	0	2	4

Der y -Wert ($f'(x)$) ist die Steigung von K an einer Stelle x .

Verbindet man die Punkte, erhält man das **Schaubild der Ableitungsfunktion f'** .



Bemerkung: K ist das Schaubild von f .

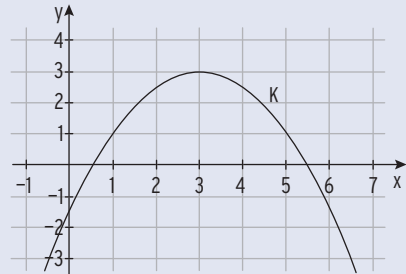
$f(x)$ ist der y -Wert eines Kurvenpunktes von K .

$f'(x)$ ist die Steigung von K an einer Stelle x .

Die Funktionswerte der Ableitungsfunktion f' sind die Steigungswerte von K .

Beispiel 2

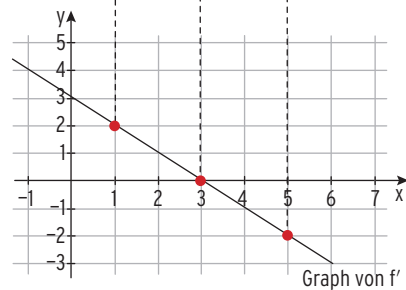
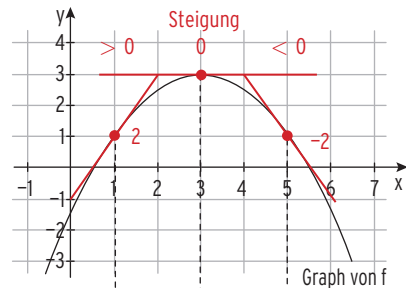
- ➔ K ist das Schaubild der Funktion f .
Skizzieren Sie das Schaubild der Ableitungsfunktion von f .

**Lösung**

Die Steigung von K ist **null** für $x_1 = 3$,
 K hat in $x_1 = 3$ eine waagrechte Tangente,
d.h., das Schaubild von f' schneidet die
 x -Achse in $x_1 = 3$.

Die Steigung von K z. B. in $x = 1$ ist 2.
Die Steigung von K ist **positiv** für $x < 3$,
d.h., das Schaubild von f' verläuft oberhalb
der x -Achse für $x < 3$.

Die Steigung von K z. B. in $x = 5$ ist -2 .
Die Steigung von K ist **negativ** für $x > 3$,
d.h., das Schaubild von f' verläuft unterhalb
der x -Achse für $x > 3$.



Bemerkung: Der Graph der Ableitungsfunktion einer quadratischen Funktion ist eine Gerade.

Der x -Wert des Scheitelpunktes des Graphen von f ist die Nullstelle der Ableitungsfunktion von f .

Verschiebt man den Graphen von f in y -Richtung, so verändert sich der Graph der Ableitungsfunktion von f nicht.

Beispiel 3

➔ Gegeben ist das Schaubild K einer Funktion f. Für welche x-Werte ist die Steigung von K positiv, null oder negativ? Skizzieren Sie das Schaubild der Ableitungsfunktion von f.



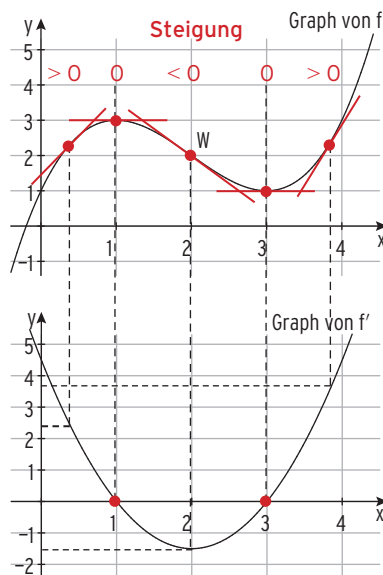
Lösung

Die Steigung von K ist **null** für $x_1 = 1$ und $x_2 = 3$, d.h., das Schaubild von f' schneidet die x-Achse in $x_1 = 1$ und $x_2 = 3$.

Die Steigung von K ist **positiv** für $x < 1$ oder $x > 3$, d.h., das Schaubild von f' verläuft oberhalb der x-Achse für $x < 1$ oder $x > 3$.

Die Steigung von K ist **negativ** für $1 < x < 3$, d.h., das Schaubild von f' verläuft unterhalb der x-Achse für $1 < x < 3$.

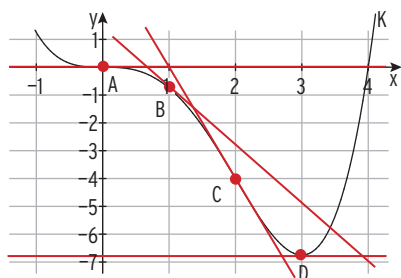
Hinweis: K hat im Punkt W die kleinste Steigung.



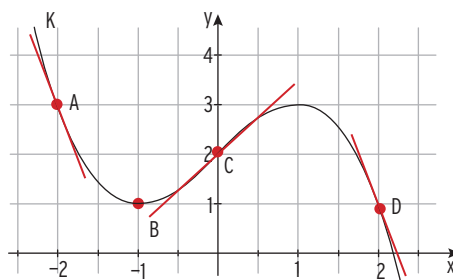
Aufgaben

1 Lesen Sie die Steigung des Graphen K in den Punkten A, B, C und D ab.

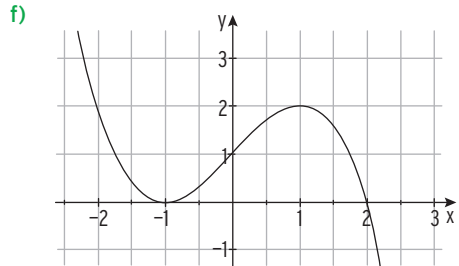
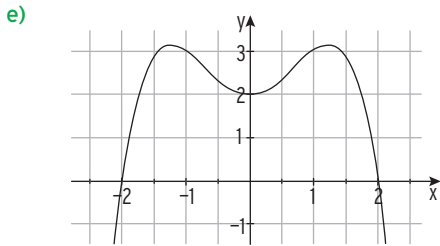
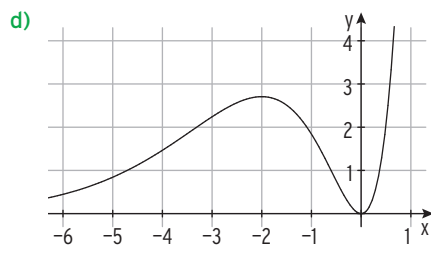
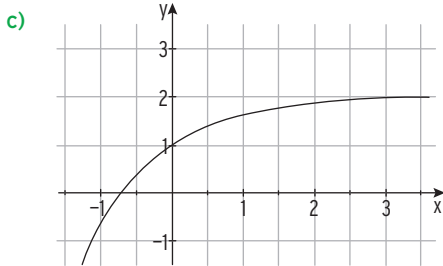
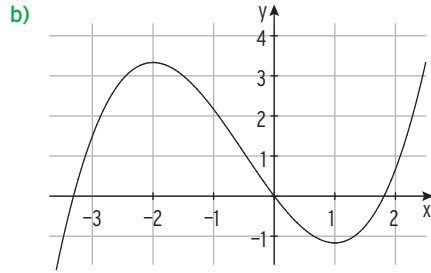
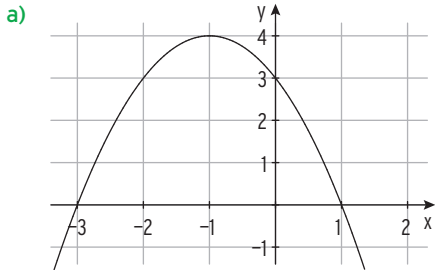
a)



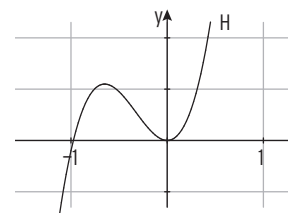
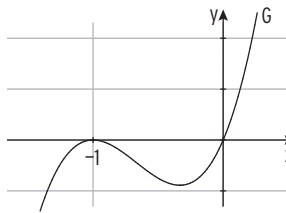
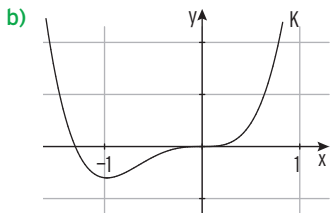
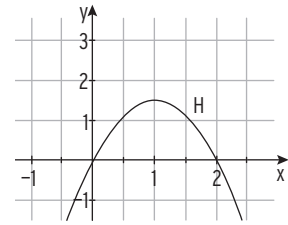
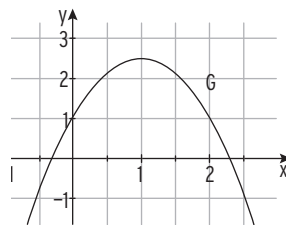
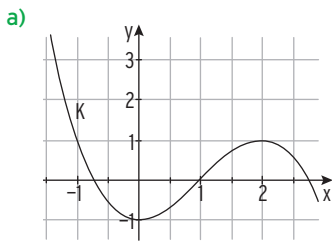
b)



2 Die Abbildung zeigt das Schaubild von f . Übertragen Sie das Schaubild in Ihr Heft und skizzieren Sie das Schaubild der Ableitungsfunktion von f .



3 K ist das Schaubild der Funktion f . Welches der beiden Schaubilder, G oder H , ist das Schaubild der Ableitungsfunktion von f ? Begründen Sie Ihre Entscheidung.

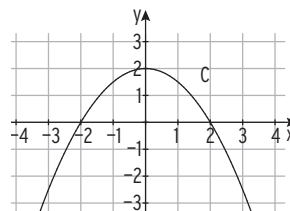
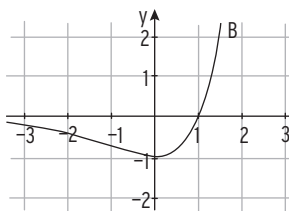
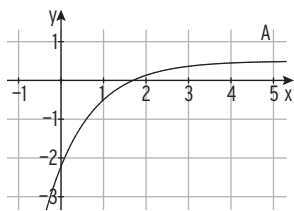
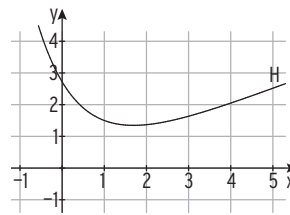
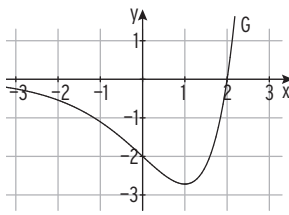
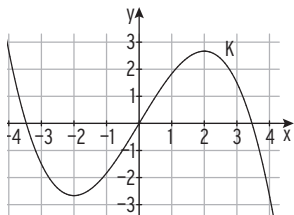


4 Skizzieren Sie das Schaubild K einer Funktion f mit folgenden Eigenschaften:

- a) K ist eine Parabel und verläuft durch P(2|3) mit der Steigung 1.
- b) K hat zwei waagrechte Tangenten und im Ursprung eine positive Steigung.



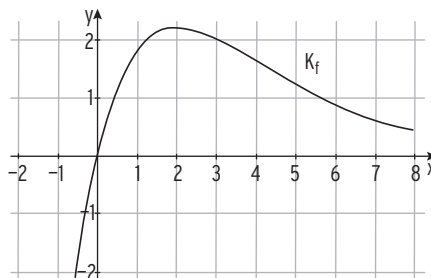
5 Ordnen Sie dem Schaubild einer Funktion das Schaubild ihrer Ableitungsfunktion zu. Begründen Sie Ihre Zuordnung.



6 Die Abbildung zeigt einen Ausschnitt des Schaubilds K_f einer Funktion f.

Welche der folgenden Aussagen sind wahr bzw. falsch? Begründen Sie.

- (1) Es gilt: $f'(1) < 0$.
- (2) Die Steigung von f an der Stelle $x = 0$ ist kleiner als die durchschnittliche Änderungsrate von f im Intervall $[0 ; 3]$.
- (3) Für die Ableitungsfunktion f' von f gilt: $f'(3) = -f'(1)$.
- (4) Das Schaubild von f verläuft im Schnittpunkt mit der y-Achse steiler als die erste Winkelhalbierende.



7 Die folgende Tabelle enthält Funktionswerte und Werte der ersten Ableitung einer Polynomfunktion h 4. Grades. Das Schaubild von h ist K.

x	-1,5	-1	-0,5	0	0,5	1	1,5
h(x)	2,375	-2	-1,625	-1	-1,625	-2	2,375
h'(x)	-18	-2	2	0	-2	2	18

Entscheiden Sie, ob folgende Aussagen wahr oder falsch sind und begründen Sie Ihre Entscheidungen ohne Funktionsterme zu berechnen.

- (1) $P(-1 | 2)$ liegt auf K.
- (2) K besitzt drei Punkte mit waagrechter Tangente.

Was man wissen sollte – über Änderungsrate und grafisches Differenzieren

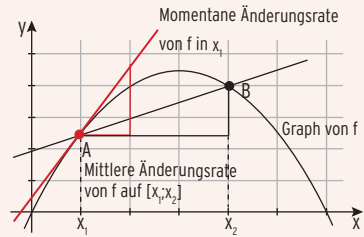
Änderungsrate

- **Mittlere Änderungsrate von f** auf $[x_1; x_2]$:

$$\frac{f(x_2) - f(x_1)}{x_2 - x_1} \text{ (Sekantensteigung)}$$

- Für $x_2 \rightarrow x_1$ strebt die mittlere Änderungsrate von f gegen die **momentane Änderungsrate von f** an der Stelle x_1 (Tangentensteigung).

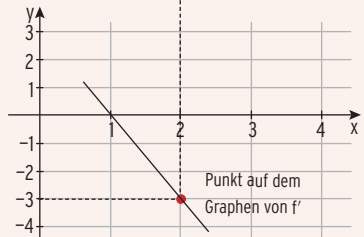
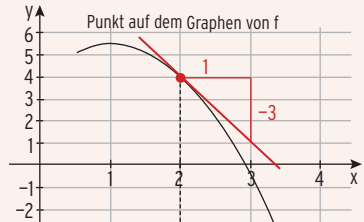
(Grenzwert der mittleren Änderungsrate)



Grafisches Differenzieren

Die Steigung des Graphen von f an der Stelle x ist der y-Wert des Punktes auf dem Graphen von f' an der Stelle x.

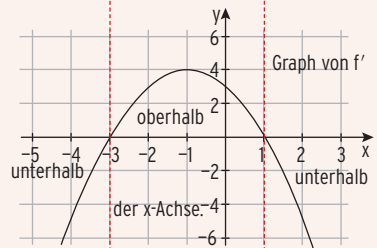
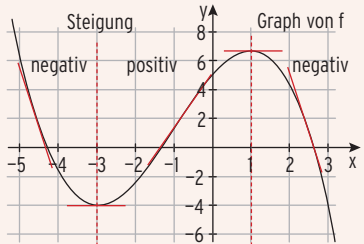
$f'(x)$ ist die Steigung des Graphen von f an einer Stelle x.



Ist die Steigung des Graphen von f negativ, verläuft der Graph von f' unterhalb der x-Achse.

Der x-Wert eines Punktes mit waagrechter Tangente des Graphen von f ist die Nullstelle der Ableitungsfunktion von f.

Ist die Steigung des Graphen von f positiv, verläuft der Graph von f' oberhalb der x-Achse.



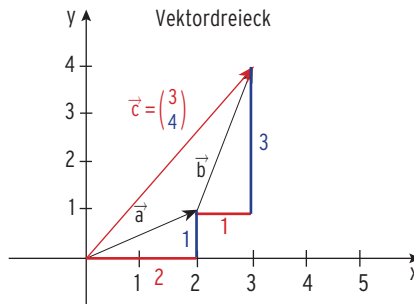
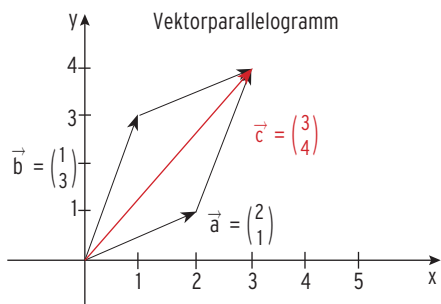
1.3 Rechnen mit Vektoren

1.3.1 Addition und Subtraktion

Addition von Vektoren

Beispiel für eine Vektoraddition: $\vec{a} + \vec{b} = \begin{pmatrix} 2 \\ 1 \end{pmatrix} + \begin{pmatrix} 1 \\ 3 \end{pmatrix}$

Geometrische Deutung der Vektoraddition



Berechnung: $\vec{a} + \vec{b} = \begin{pmatrix} 2 \\ 1 \end{pmatrix} + \begin{pmatrix} 1 \\ 3 \end{pmatrix} = \begin{pmatrix} 3 \\ 4 \end{pmatrix}$

Entsprechend gilt: $\vec{u} + \vec{v} = \begin{pmatrix} 5 \\ 4 \\ -2 \end{pmatrix} + \begin{pmatrix} -1 \\ 0 \\ 6 \end{pmatrix} = \begin{pmatrix} 5-1 \\ 4+0 \\ -2+6 \end{pmatrix} = \begin{pmatrix} 4 \\ 4 \\ 4 \end{pmatrix}$

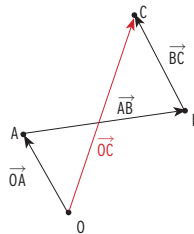
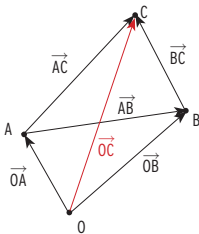
Addition von Vektoren: $\vec{a} + \vec{b} = \begin{pmatrix} a_1 \\ a_2 \\ a_3 \end{pmatrix} + \begin{pmatrix} b_1 \\ b_2 \\ b_3 \end{pmatrix} = \begin{pmatrix} a_1 + b_1 \\ a_2 + b_2 \\ a_3 + b_3 \end{pmatrix}$

Vorgehensweise beim Addieren von zwei Vektoren $\vec{a} + \vec{b}$:

Den Pfeil von \vec{b} an den Endpunkt von Pfeil \vec{a} ansetzen. Der Vektor $\vec{c} = \vec{a} + \vec{b}$ ist dann bestimmt durch den Anfangspunkt von \vec{a} und den Endpunkt des Pfeils von \vec{b} .

Beispiele

$$\begin{aligned} \vec{OA} + \vec{AC} &= \vec{OC} \\ \vec{AB} + \vec{BC} &= \vec{AC} \\ \vec{OA} + \vec{AB} &= \vec{OB} \\ \vec{OA} + \vec{AB} + \vec{BC} &= \vec{OC} \end{aligned}$$



Beispiel aus der Linearen Algebra

Die Bestellung der Rohstoffe (Typ A, Typ B) schreibt man in einen Bestellvektor $\begin{pmatrix} 10 \\ 5 \end{pmatrix}$, d.h.

man bestellt 10 ME Rohstoffe Typ A und 5 ME Typ B. Eine zweite Bestellung lautet $\begin{pmatrix} 8 \\ 15 \end{pmatrix}$.

Die gesamte Bestellung berechnet sich durch $\begin{pmatrix} 10 \\ 5 \end{pmatrix} + \begin{pmatrix} 8 \\ 15 \end{pmatrix} = \begin{pmatrix} 10+8 \\ 5+15 \end{pmatrix} = \begin{pmatrix} 18 \\ 20 \end{pmatrix}$.



Subtraktion von Vektoren

Beispiel

$$\vec{b} - \vec{a} = \begin{pmatrix} 3 \\ 3 \end{pmatrix} - \begin{pmatrix} -1 \\ 2 \end{pmatrix} = \begin{pmatrix} 4 \\ 1 \end{pmatrix}$$

Geometrische Deutung der Differenz

$$\vec{a} + \vec{AB} = \vec{b} \text{ ergibt } \vec{AB} = \vec{b} - \vec{a}$$

Mit $\vec{a} = \vec{OA}$ und $\vec{b} = \vec{OB}$ erhält man:

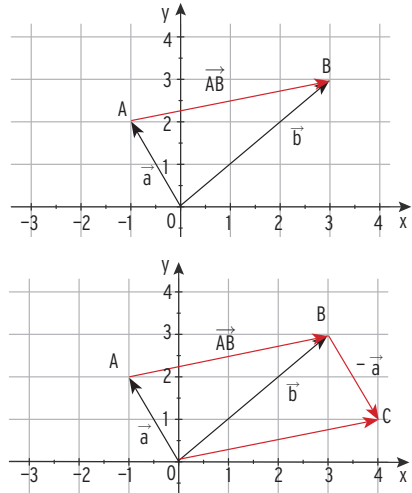
$$\vec{AB} = \vec{b} - \vec{a} = \vec{OB} - \vec{OA}$$

Erläuterung:

$\vec{AO} = -\vec{a}$ ist der Gegenvektor von $\vec{a} = \vec{OA}$.

Addiert man zum Vektor \vec{b} den **Gegenvektor** von \vec{a} , so erhält man den **Differenzvektor**

$$\vec{b} + (-\vec{a}) = \vec{b} - \vec{a}.$$



Beispiel 1

Gegeben sind die Punkte A(5 | 4 | -2) und B(-1 | 0 | 6). Bestimmen Sie \vec{AB} und \vec{BA} .

Lösung

Zugehörige Ortsvektoren: $\vec{OA} = \begin{pmatrix} 5 \\ 4 \\ -2 \end{pmatrix}; \vec{OB} = \begin{pmatrix} -1 \\ 0 \\ 6 \end{pmatrix}$

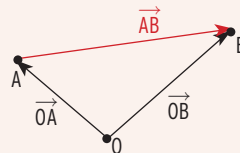
$$\vec{AB} = \vec{OB} - \vec{OA} = \begin{pmatrix} -1 \\ 0 \\ 6 \end{pmatrix} - \begin{pmatrix} 5 \\ 4 \\ -2 \end{pmatrix} = \begin{pmatrix} -6 \\ -4 \\ 8 \end{pmatrix} \qquad \vec{BA} = \vec{OA} - \vec{OB} = \begin{pmatrix} 5 \\ 4 \\ -2 \end{pmatrix} - \begin{pmatrix} -1 \\ 0 \\ 6 \end{pmatrix} = \begin{pmatrix} 6 \\ 4 \\ -8 \end{pmatrix}$$

Für die Punkte A(a₁ | a₂ | a₃) und B(b₁ | b₂ | b₃) mit den zugehörigen **Ortsvektoren**

$$\vec{OA} = \begin{pmatrix} a_1 \\ a_2 \\ a_3 \end{pmatrix} \text{ und } \vec{OB} = \begin{pmatrix} b_1 \\ b_2 \\ b_3 \end{pmatrix} \text{ gilt:}$$

$$\vec{AB} = \vec{OB} - \vec{OA} = \begin{pmatrix} b_1 - a_1 \\ b_2 - a_2 \\ b_3 - a_3 \end{pmatrix}.$$

\vec{AB} ist ein **Verbindungsvektor** der Punkte A und B.



Beispiel 2

Gegeben sind die Punkte A(-2 | -1 | 3), B(4 | 5 | -2), C(2 | -8 | 6) und D(8 | -2 | 1). Zeigen Sie, dass \vec{AB} und \vec{CD} denselben Vektor repräsentieren.

Lösung

$$\vec{AB} = \vec{OB} - \vec{OA} = \begin{pmatrix} 4 - (-2) \\ 5 - (-1) \\ -2 - 3 \end{pmatrix} = \begin{pmatrix} 6 \\ 6 \\ -5 \end{pmatrix}; \vec{CD} = \vec{OD} - \vec{OC} = \begin{pmatrix} 8 - 2 \\ -2 - (-8) \\ 1 - 6 \end{pmatrix} = \begin{pmatrix} 6 \\ 6 \\ -5 \end{pmatrix}$$

Somit ist gezeigt: $\vec{AB} = \vec{CD}$.

Hinweis: $\vec{AB} - \vec{CD} = \begin{pmatrix} 0 \\ 0 \\ 0 \end{pmatrix} = \vec{o}$ \vec{o} ist der Nullvektor.



mvurl.de/e187

Beispiel 3

➔ Berechnen Sie $\vec{a} - \vec{b} + \vec{c}$ mit $\vec{a} = \begin{pmatrix} 1 \\ 3 \\ -2 \end{pmatrix}$, $\vec{b} = \begin{pmatrix} -5 \\ 0 \\ -6 \end{pmatrix}$ und $\vec{c} = \begin{pmatrix} -1 \\ 4 \\ 5 \end{pmatrix}$.

Lösung

$$\vec{a} - \vec{b} + \vec{c} = \begin{pmatrix} 1 \\ 3 \\ -2 \end{pmatrix} - \begin{pmatrix} -5 \\ 0 \\ -6 \end{pmatrix} + \begin{pmatrix} -1 \\ 4 \\ 5 \end{pmatrix} = \begin{pmatrix} 1 - (-5) - 1 \\ 3 - 0 + 4 \\ -2 - (-6) + 5 \end{pmatrix} = \begin{pmatrix} 5 \\ 7 \\ 9 \end{pmatrix}$$

Aufgaben

1 Berechnen Sie $\vec{a} + \vec{b}$ bzw. $\vec{a} - \vec{b}$.

a) $\vec{a} = \begin{pmatrix} 2 \\ 1 \\ -4 \end{pmatrix}$, $\vec{b} = \begin{pmatrix} -7 \\ 5 \\ -4 \end{pmatrix}$

b) $\vec{a} = \begin{pmatrix} 10 \\ 0,5 \\ -2,5 \end{pmatrix}$, $\vec{b} = \begin{pmatrix} 3,5 \\ 0 \\ -6 \end{pmatrix}$

c) $\vec{a} = \begin{pmatrix} 0 \\ 0 \\ -13 \end{pmatrix}$, $\vec{b} = \begin{pmatrix} -1 \\ 5 \\ -8 \end{pmatrix}$

2 Addieren Sie die Vektoren \vec{a} und \vec{b} geometrisch.

a) $\vec{a} = \begin{pmatrix} 2 \\ -1 \\ -1 \end{pmatrix}$, $\vec{b} = \begin{pmatrix} -3 \\ 3 \\ 3 \end{pmatrix}$

b) $\vec{a} = \begin{pmatrix} -4 \\ 3 \\ -2 \end{pmatrix}$, $\vec{b} = \begin{pmatrix} -1 \\ -1 \\ -2 \end{pmatrix}$

c) $\vec{a} = \begin{pmatrix} 0 \\ 5 \\ 5 \end{pmatrix}$, $\vec{b} = \begin{pmatrix} 4 \\ -3 \\ -3 \end{pmatrix}$

3 Bestimmen Sie den Verbindungsvektor der Punkte $A(-3 | 1 | -5)$ und $B(4 | -3 | -1)$.

4 Gegeben sind die Punkte A und B. Bestimmen Sie \overrightarrow{AB} und \overrightarrow{BA} .

a) $A(3 | 2 | -2)$, $B(-5 | 3 | -6)$

b) $A(-5 | 3 | -3)$, $B(1 | 0 | 0)$

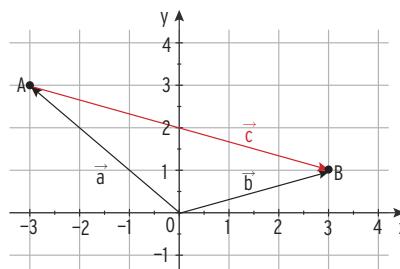
5 Gegeben sind die Punkte $A(5 | -1 | 2)$, $B(6 | 4 | -2)$, $C(0 | -7 | 8)$ und $D(1 | -2 | 4)$.

Zeigen Sie: $\overrightarrow{AB} = \overrightarrow{CD}$.

6 Die Abbildung zeigt die Vektoren \vec{a} , \vec{b} und \vec{c} .

Ein Schüler behauptet: $\vec{c} = \overrightarrow{OA} - \overrightarrow{OB}$.

Nehmen Sie dazu Stellung.



7 Gegeben sind die Punkte $A(2 | -2 | 1)$, $B(-2 | 2 | 1)$ und $C(-2 | -2 | 3)$.

a) Zeichnen Sie die Punkte A, B und C in ein geeignetes Koordinatensystem ein.

b) Geben Sie die Verbindungsvektoren der drei Punkte an.

c) Ergänzen Sie den Punkt D, so dass ABCD ein Parallelogramm ist.

d) Berechnen Sie $\overrightarrow{AB} - \overrightarrow{BC}$ und zeichnen Sie das Ergebnis in Ihr Koordinatensystem ein.

e) $\overrightarrow{AB} + \overrightarrow{BC} - \overrightarrow{AC} = \vec{0}$. Überprüfen Sie.



1.3.2 Skalare Multiplikation

Die **skalare** Multiplikation ist die Multiplikation eines Vektors mit einer reellen Zahl (**Skalar**).

Beispiele

a) $3 \cdot \begin{pmatrix} 2 \\ 1 \end{pmatrix} = \begin{pmatrix} 6 \\ 3 \end{pmatrix}$ b) $-5 \cdot \begin{pmatrix} 5 \\ 4 \\ -2 \end{pmatrix} = \begin{pmatrix} -25 \\ -20 \\ 10 \end{pmatrix}$ c) $0 \cdot \begin{pmatrix} 3 \\ -2 \\ 7 \end{pmatrix} = \begin{pmatrix} 0 \\ 0 \\ 0 \end{pmatrix} = \vec{0}$ d) $0 \cdot \vec{a} = \vec{0}$

e) Beispiel aus der linearen Algebra

Die Bestellung der Endprodukte (E_1, E_2) schreibt man in einen Vektor $\begin{pmatrix} 110 \\ 25 \end{pmatrix}$, d.h.

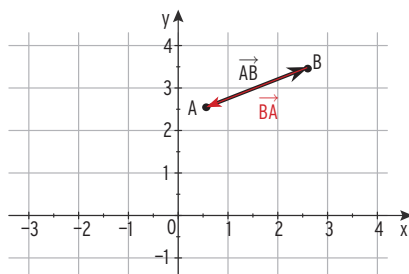
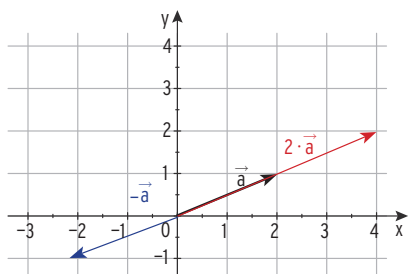
man bestellt 110 ME Endprodukte E_1 und 25 Endprodukte E_2 . Ein zweiter Auftrag hat den

4-fachen Umfang. Die Bestellung berechnet sich durch $4 \cdot \begin{pmatrix} 110 \\ 25 \end{pmatrix} = \begin{pmatrix} 4 \cdot 110 \\ 4 \cdot 25 \end{pmatrix} = \begin{pmatrix} 440 \\ 100 \end{pmatrix}$.

Skalare Multiplikation: Ein Vektor \vec{a} wird mit einer reellen Zahl k multipliziert, indem man jede Koordinate von \vec{a} mit der reellen Zahl k multipliziert.

$$k \cdot \vec{a} = k \cdot \begin{pmatrix} a_1 \\ a_2 \\ a_3 \end{pmatrix} = \begin{pmatrix} k \cdot a_1 \\ k \cdot a_2 \\ k \cdot a_3 \end{pmatrix}$$

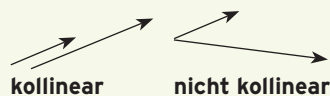
Geometrische Deutung der skalaren Multiplikation



\vec{BA} ist der Gegenvektor von \vec{AB} : $\vec{BA} = -\vec{AB}$

Bemerkung: Zwei Vektoren \vec{a} und \vec{b} sind **parallel (kollinear)**, wenn es ein k gibt, sodass $\vec{a} = k \cdot \vec{b}$ (\vec{a} ist skalares Vielfaches von \vec{b}).

Zwei **parallele** Vektoren heißen auch linear **abhängig**.



Beispiel

➡ Untersuchen Sie die Vektoren $\vec{a} = \begin{pmatrix} 2 \\ 3 \\ -5 \end{pmatrix}$ und $\vec{b} = \begin{pmatrix} -\frac{1}{3} \\ -\frac{1}{2} \\ \frac{5}{6} \end{pmatrix}$ auf Parallelität.

Lösung

Gesucht ist $k \in \mathbb{R}$, sodass $\vec{a} = k \cdot \vec{b}$.

$$\begin{pmatrix} 2 \\ 3 \\ -5 \end{pmatrix} = k \cdot \begin{pmatrix} -\frac{1}{3} \\ -\frac{1}{2} \\ \frac{5}{6} \end{pmatrix} \quad \begin{matrix} 2 = -\frac{1}{3}k \\ 3 = -\frac{1}{2}k \\ -5 = \frac{5}{6}k \end{matrix}$$

Für $k = -6$ erhält man drei wahre Aussagen. \vec{a} und \vec{b} sind **parallel (kollinear)**.

Linearkombination von Vektoren

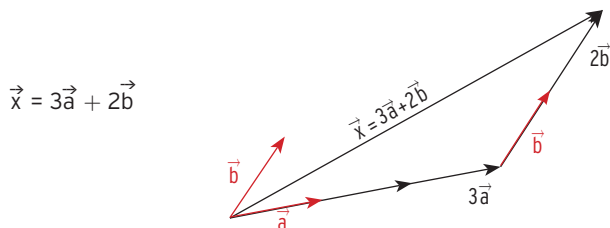
Man nennt eine Summe $r \cdot \vec{a} + s \cdot \vec{b}$ mit $r, s \in \mathbb{R}$, eine **Linearkombination** von \vec{a} und \vec{b} .

Beispiele

$$2\vec{a} + 4\vec{b} = 2 \begin{pmatrix} 2 \\ 1 \end{pmatrix} + 4 \begin{pmatrix} -3 \\ 2 \end{pmatrix} = \begin{pmatrix} -8 \\ 10 \end{pmatrix}$$

$$4\vec{u} - 5\vec{v} = 4 \begin{pmatrix} 5 \\ 4 \\ -2 \end{pmatrix} - 5 \begin{pmatrix} -1 \\ 0 \\ 6 \end{pmatrix} = \begin{pmatrix} 25 \\ 16 \\ -38 \end{pmatrix}$$

Geometrische Deutung einer Linearkombination



Beispiel 1

➔ Gegeben sind Vektoren $\vec{a} = \begin{pmatrix} -2 \\ -2 \\ -1 \end{pmatrix}$, $\vec{b} = \begin{pmatrix} -1 \\ 5 \\ 1 \end{pmatrix}$ und $\vec{c} = \begin{pmatrix} -2 \\ 4 \\ 0,5 \end{pmatrix}$.

Der Vektor \vec{d} ist festgelegt durch $\vec{d} = \vec{a} + 2\vec{b}$.

Zeigen Sie: Die Vektoren \vec{d} und \vec{c} sind kollinear.

Lösung

$$\vec{d} = \vec{a} + 2\vec{b} = \begin{pmatrix} -2 \\ -2 \\ -1 \end{pmatrix} + 2 \begin{pmatrix} -1 \\ 5 \\ 1 \end{pmatrix} = \begin{pmatrix} -2 \\ -2 \\ -1 \end{pmatrix} + \begin{pmatrix} -2 \\ 10 \\ 2 \end{pmatrix} = \begin{pmatrix} -4 \\ 8 \\ 1 \end{pmatrix} = \frac{1}{2} \begin{pmatrix} -2 \\ 4 \\ 0,5 \end{pmatrix} = \frac{1}{2} \vec{c}$$

Der Vektor \vec{d} ist ein Vielfaches von \vec{c} .

Damit sind die Vektoren \vec{d} und \vec{c} kollinear (linear abhängig).

Beispiel 2

➔ Gegeben sind die Vektoren $\vec{a} = \begin{pmatrix} 2 \\ -1 \\ 4 \end{pmatrix}$, $\vec{b} = \begin{pmatrix} 1 \\ 3 \\ -5 \end{pmatrix}$ und $\vec{c} = \begin{pmatrix} 0 \\ -7 \\ 14 \end{pmatrix}$.

Bestimmen Sie r und s so, dass gilt: $r\vec{a} + s\vec{b} = \vec{c}$.

Lösung

$$\text{Vektorgleichung } r\vec{a} + s\vec{b} = \vec{c}: \quad r \begin{pmatrix} 2 \\ -1 \\ 4 \end{pmatrix} + s \begin{pmatrix} 1 \\ 3 \\ -5 \end{pmatrix} = \begin{pmatrix} 0 \\ -7 \\ 14 \end{pmatrix}$$

$$\begin{aligned} \text{Dies entspricht dem LGS:} \quad & 2r + s = 0 \quad \text{I} \\ & -r + 3s = -7 \quad \text{II} \\ & 4r - 5s = 14 \quad \text{III} \end{aligned}$$

$$\text{Addition von I und II} \cdot (2): \quad 7s = -14 \quad \text{ergibt } s = -2$$

$$\text{Einsetzen in Gleichung I:} \quad 2r + (-2) = 0 \quad \text{ergibt } r = 1$$

Einsetzen von r und s in Gleichung III ergibt eine wahre Aussage. Das LGS ist eindeutig lösbar mit $s = -2$ und $r = 1$.

Beispiel 3

- ➡ Gegeben sind die Punkte $A(2 \mid -2 \mid 1)$, $B(3 \mid 3 \mid 1)$, $C(1,5 \mid 1,5 \mid 3)$ und $D(1 \mid -1 \mid 3)$.
Zeigen Sie: Das Viereck ABCD ist ein Trapez und kein Parallelogramm.

Lösung

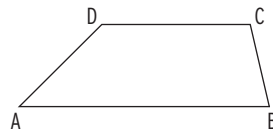
Das Viereck ABCD ist ein **Trapez**, wenn im Viereck ABCD **zwei Seiten parallel** sind.

Zu zeigen ist: $\vec{AB} = r \cdot \vec{DC}$ (oder $\vec{AD} = r \cdot \vec{BC}$).

Mit $\vec{AB} = \begin{pmatrix} 1 \\ 5 \\ 0 \end{pmatrix}$ und $\vec{DC} = \begin{pmatrix} 0,5 \\ 2,5 \\ 0 \end{pmatrix}$ folgt: $\vec{AB} = 2\vec{DC}$ d.h.,

\vec{AB} und \vec{DC} sind parallel. Das Viereck ABCD ist ein Trapez.

Wegen $\vec{AB} \neq \vec{DC}$ ist das Trapez ABCD kein Parallelogramm.



Beispiel 4

- ➡ Die Punkte $A(2 \mid 1 \mid 3)$, $B(4 \mid 3 \mid 4)$, $C(5 \mid 5 \mid 3)$ und $D(3 \mid 3 \mid 2)$ bilden ein Viereck.
- Zeigen Sie, dass die Punkte A, B, C und D in dieser Reihenfolge die Eckpunkte eines Parallelogramms sind.
 - Bestimmen Sie den Schnittpunkt S der Diagonalen des Parallelogramms.

Lösung

- a) Bei positivem Umlaufsinn sind die Punkte A, B, C und D die Eckpunkte eines Parallelogramms, d.h., die Vektoren \vec{AB} und \vec{DC} müssen gleich sein.

Zu zeigen ist: $\vec{AB} = \vec{DC}$.

$$\vec{AB} = \begin{pmatrix} 4 \\ 3 \\ 4 \end{pmatrix} - \begin{pmatrix} 2 \\ 1 \\ 3 \end{pmatrix} = \begin{pmatrix} 2 \\ 2 \\ 1 \end{pmatrix}; \quad \vec{DC} = \begin{pmatrix} 5 \\ 5 \\ 3 \end{pmatrix} - \begin{pmatrix} 3 \\ 3 \\ 2 \end{pmatrix} = \begin{pmatrix} 2 \\ 2 \\ 1 \end{pmatrix}$$

Die Bedingung $\vec{AB} = \vec{DC}$ ist erfüllt. Das Viereck ABCD ist ein Parallelogramm.

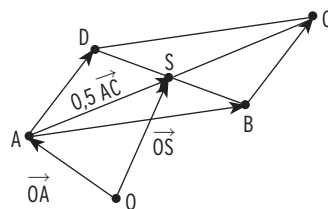
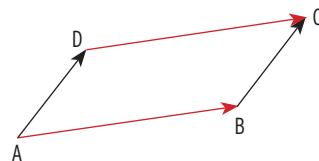
Hinweis: Es ist auch möglich, $\vec{BC} = \vec{AD}$ zu zeigen.

- b) **Die Diagonalen eines Parallelogramms halbieren sich.**

$$\begin{aligned} \vec{OS} &= \vec{OA} + \frac{1}{2}\vec{AC} = \vec{OA} + \frac{1}{2}(\vec{OC} - \vec{OA}) \\ &= \vec{OA} + \frac{1}{2}\vec{OC} - \frac{1}{2}\vec{OA} = \frac{1}{2}\vec{OA} + \frac{1}{2}\vec{OC} \\ &= \frac{1}{2}(\vec{OA} + \vec{OC}) \end{aligned}$$

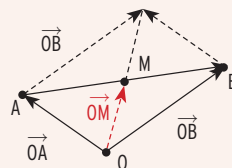
$$\vec{OS} = \frac{1}{2} \left(\begin{pmatrix} 2 \\ 1 \\ 3 \end{pmatrix} + \begin{pmatrix} 5 \\ 5 \\ 3 \end{pmatrix} \right) = \frac{1}{2} \begin{pmatrix} 7 \\ 6 \\ 6 \end{pmatrix} = \begin{pmatrix} 3,5 \\ 3 \\ 3 \end{pmatrix} \quad S(3,5 \mid 3 \mid 3)$$

Hinweis: S ist der Mittelpunkt der Strecke AC.



Für den **Mittelpunkt** M der Strecke AB gilt:

$$\vec{OM} = \vec{OA} + \frac{1}{2}\vec{AB} \quad \text{bzw.} \quad \vec{OM} = \frac{1}{2}(\vec{OA} + \vec{OB})$$



2 Maße und Längen

2.1 Betrag eines Vektors

Beispiel 1

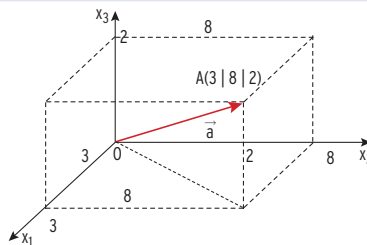
- ➔ Gegeben ist der Punkt $A(3 | 8 | 2)$.
Berechnen Sie den Betrag (die Länge) des Vektors $\vec{a} = \overrightarrow{OA}$.

Lösung

Für die Länge $|\vec{a}|$ erhält man mit dem Satz des Pythagoras:

$$|\vec{a}| = |\overrightarrow{OA}| = \sqrt{3^2 + 8^2 + 2^2} = \sqrt{77} \approx 8,77$$

Für einen Vektor $\vec{a} = \begin{pmatrix} 3 \\ 8 \\ 2 \end{pmatrix}$ gilt: $|\vec{a}| = \left| \begin{pmatrix} 3 \\ 8 \\ 2 \end{pmatrix} \right| = \sqrt{77}$



Der **Betrag eines Vektors** $|\vec{a}|$ ist die Länge des zugehörigen Pfeils.

$$|\vec{a}| = \left| \begin{pmatrix} a_1 \\ a_2 \\ a_3 \end{pmatrix} \right| = \sqrt{a_1^2 + a_2^2 + a_3^2}$$

Der Betrag (die **Länge**) eines Vektors ist eine **skalare Größe** (reelle Zahl).
Ein Vektor mit Betrag 1 (Länge 1) heißt **Einheitsvektor**.

Beispiel 2

- ➔ Bestimmen Sie die Länge der Vektoren $\vec{a} = \begin{pmatrix} 1 \\ 2 \\ -1 \end{pmatrix}$; $\vec{b} = \begin{pmatrix} 0 \\ 1 \\ 0 \end{pmatrix}$; $\vec{c} = \frac{1}{3} \cdot \begin{pmatrix} 2 \\ 1 \\ 2 \end{pmatrix}$.
Welche Vektoren sind Einheitsvektoren?

Lösung

$$\left| \begin{pmatrix} 1 \\ 2 \\ -1 \end{pmatrix} \right| = \sqrt{1^2 + 2^2 + (-1)^2} = \sqrt{6} \approx 2,45; \quad \left| \begin{pmatrix} 0 \\ 1 \\ 0 \end{pmatrix} \right| = 1; \quad \left| \frac{1}{3} \cdot \begin{pmatrix} 2 \\ 1 \\ 2 \end{pmatrix} \right| = \frac{1}{3} \sqrt{9} = 1$$

Die Vektoren \vec{b} und \vec{c} sind Einheitsvektoren.

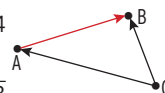
Beispiel 3

- ➔ Berechnen Sie die Länge der Strecke AB mit $A(1 | -3 | 2)$ und $B(3 | 2 | 4)$.

Lösung

$$\overrightarrow{AB} = \overrightarrow{OB} - \overrightarrow{OA} = \begin{pmatrix} 3 \\ 2 \\ 4 \end{pmatrix} - \begin{pmatrix} 1 \\ -3 \\ 2 \end{pmatrix} = \begin{pmatrix} 2 \\ 5 \\ 2 \end{pmatrix}; \quad |\overrightarrow{AB}| = \left| \begin{pmatrix} 2 \\ 5 \\ 2 \end{pmatrix} \right| = \sqrt{2^2 + 5^2 + 2^2} = \sqrt{33} \approx 5,74$$

Der Betrag des Vektors \overrightarrow{AB} entspricht der Länge der Strecke AB: $|\overrightarrow{AB}| = \overline{AB}$




Gegeben sind die zwei Punkte $A(a_1 | a_2 | a_3)$ und $B(b_1 | b_2 | b_3)$. Für den Betrag des

Vektors \overrightarrow{AB} gilt: $|\overrightarrow{AB}| = \left| \begin{pmatrix} b_1 - a_1 \\ b_2 - a_2 \\ b_3 - a_3 \end{pmatrix} \right| = \sqrt{(b_1 - a_1)^2 + (b_2 - a_2)^2 + (b_3 - a_3)^2}$

Der Betrag des Vektors \overrightarrow{AB} ist der **Abstand der Punkte A und B** (Länge der Strecke AB).

Beispiel 4

- ➡ Zwei Flugzeuge befinden sich in den Positionen $A(-4 \mid -7 \mid 3)$ und $B(5 \mid -3 \mid 4)$ (Koordinaten in km).
Überprüfen Sie, ob die Flugzeuge den geforderten Abstand von 8 km einhalten.

**Lösung**

Vektor \vec{AB} : $\vec{AB} = \vec{OB} - \vec{OA} = \begin{pmatrix} 5 \\ -3 \\ 4 \end{pmatrix} - \begin{pmatrix} -4 \\ -7 \\ 3 \end{pmatrix} = \begin{pmatrix} 9 \\ 4 \\ 1 \end{pmatrix}$

Für den **Abstand d der Punkte A und B** gilt: $d = |\vec{AB}| = \sqrt{9^2 + 4^2 + 1^2} = \sqrt{98} \approx 9,90$
Der Abstand von mehr als 8 km wird eingehalten.

Aufgaben

- 1 Berechnen Sie den Betrag des Vektors \vec{a} .

a) $\vec{a} = \begin{pmatrix} 2 \\ -3 \\ 5 \end{pmatrix}$

b) $\vec{a} = \begin{pmatrix} -2 \\ 0 \\ 1 \end{pmatrix}$

c) $\vec{a} = \frac{1}{4} \begin{pmatrix} 0 \\ 0 \\ 4 \end{pmatrix}$

d) $\vec{a} = \begin{pmatrix} \sqrt{5} \\ 4 \\ \sqrt{7} \end{pmatrix}$

- 2 Gegeben sind die Punkte A und B. Berechnen Sie die Länge der Strecke AB.

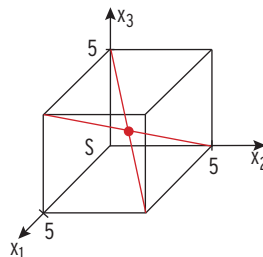
a) $A(6 \mid -5 \mid 1)$, $B(-5 \mid 3 \mid 7)$

b) $A(-0,5 \mid -2 \mid 1,5)$, $B(2,5 \mid 0 \mid -0,5)$

c) $A(10 \mid 7 \mid -5)$, $B(0 \mid 0 \mid 0)$

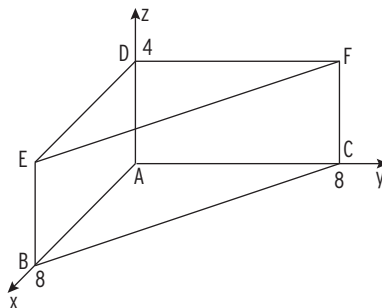
d) $A(4 \mid -3 \mid 2)$, $B(-4 \mid 3 \mid -2)$

- 3 Die Abbildung zeigt einen Würfel. S ist der Schnittpunkt der Raumdiagonalen. Bestimmen Sie den Abstand hat S von den Eckpunkten des Würfels.



- 4 Gegeben ist eine Pyramide mit der Grundfläche ABC und der Spitze S. In einem kartesischen Koordinatensystem haben deren Eckpunkte die Koordinaten $A(5 \mid 1 \mid 3)$, $B(9 \mid 4 \mid 3)$, $C(8 \mid -3 \mid 3)$ und $S(1 \mid 5 \mid -1)$.

- a) Weisen Sie nach, dass die Grundfläche ABC ein gleichschenkliges Dreieck ist. Bestimmen Sie die Länge der zwei Schenkel.
b) Geben Sie die spezielle Lage der Grundfläche ABC im Koordinatensystem sowie die Höhe h der Pyramide an.



- 5 Die Abbildung zeigt ein gerades Prisma ABCDEF mit $A(0 \mid 0 \mid 0)$, $B(8 \mid 0 \mid 0)$, $C(0 \mid 8 \mid 0)$ und $D(0 \mid 0 \mid 4)$. Bestimmen Sie den Abstand der Eckpunkte B und F.

2.2 Skalarprodukt

Beispiel

Wird ein Körper in Richtung einer Kraft bewegt, wird die Arbeit $W = F \cdot s$ verrichtet.

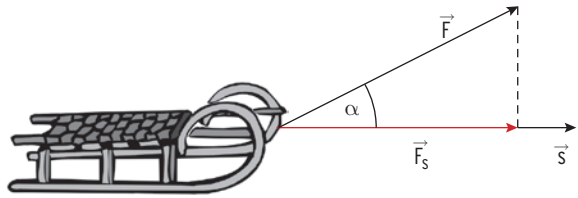
Zeigt die Kraft nicht in Richtung des Weges, dann benötigt man zur

Berechnung der Arbeit nur die Komponente F_s der Kraft F , die in Richtung des Weges wirkt:

$$\text{Arbeit } W = |\vec{F}_s| \cdot |\vec{s}|$$

Mit $|\vec{F}_s| = |\vec{F}| \cdot \cos(\alpha)$ erhält man: Arbeit $W = |\vec{F}| \cdot |\vec{s}| \cdot \cos(\alpha)$.

Dieses Produkt definiert man als **Skalarprodukt von \vec{F} und \vec{s}** : $\vec{F} \cdot \vec{s} = |\vec{F}| \cdot |\vec{s}| \cdot \cos(\alpha)$.

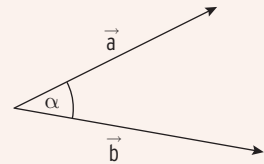


Skalarprodukt

Ist α der Winkel zwischen den Vektoren \vec{a} und \vec{b} , so bezeichnet man das Produkt

$$\vec{a} \cdot \vec{b} = |\vec{a}| \cdot |\vec{b}| \cdot \cos(\alpha)$$

als **Skalarprodukt** von \vec{a} und \vec{b} .

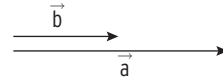


Sonderfälle:

$\alpha = 0^\circ$:

$$\vec{a} \cdot \vec{b} = |\vec{a}| \cdot |\vec{b}| \cdot \cos(0^\circ) = |\vec{a}| \cdot |\vec{b}| \cdot 1$$

$$\vec{a} \cdot \vec{b} = |\vec{a}| \cdot |\vec{b}|$$




$\alpha = 180^\circ$:

$$\vec{a} \cdot \vec{b} = |\vec{a}| \cdot |\vec{b}| \cdot \cos(180^\circ)$$

$$= |\vec{a}| \cdot |\vec{b}| \cdot (-1)$$

$$= -|\vec{a}| \cdot |\vec{b}|$$

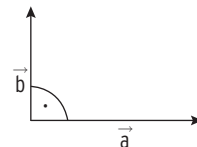


$\alpha = 90^\circ$:

Die Vektoren \vec{a} und \vec{b} stehen **senkrecht aufeinander**.

\vec{a} und \vec{b} sind **zueinander orthogonal**.

Dann gilt wegen $\cos(90^\circ) = 0$: $\vec{a} \cdot \vec{b} = 0$.



Zwei Vektoren \vec{a} und \vec{b} sind **zueinander orthogonal**, wenn $\vec{a} \cdot \vec{b} = 0$.

$$\vec{a} \perp \vec{b} \Leftrightarrow \vec{a} \cdot \vec{b} = 0$$

Skalarprodukt in Koordinatenform

$$\vec{a} \cdot \vec{a} = |\vec{a}| \cdot |\vec{a}| \cdot \cos(\alpha) = |\vec{a}| \cdot |\vec{a}| \cdot \cos(0^\circ) = (|\vec{a}|)^2 \cdot 1 = (\sqrt{a_1^2 + a_2^2 + a_3^2})^2 = a_1^2 + a_2^2 + a_3^2$$

$$\text{Für } \vec{a} \cdot \vec{a} \text{ gilt: } \vec{a} \cdot \vec{a} = \begin{pmatrix} a_1 \\ a_2 \\ a_3 \end{pmatrix} \cdot \begin{pmatrix} a_1 \\ a_2 \\ a_3 \end{pmatrix} = a_1 a_1 + a_2 a_2 + a_3 a_3$$

$$\text{Für } \vec{a} \cdot \vec{b} \text{ gilt: } \vec{a} \cdot \vec{b} = \begin{pmatrix} a_1 \\ a_2 \\ a_3 \end{pmatrix} \cdot \begin{pmatrix} b_1 \\ b_2 \\ b_3 \end{pmatrix} = a_1 b_1 + a_2 b_2 + a_3 b_3 \quad (\text{ohne Beweis})$$

Gegeben sind die Vektoren $\vec{a} = \begin{pmatrix} a_1 \\ a_2 \\ a_3 \end{pmatrix}$ und $\vec{b} = \begin{pmatrix} b_1 \\ b_2 \\ b_3 \end{pmatrix}$. Dann gilt:

$$\vec{a} \cdot \vec{b} = |\vec{a}| \cdot |\vec{b}| \cdot \cos(\alpha) \quad \text{Skalarprodukt}$$

$$\vec{a} \cdot \vec{b} = a_1 b_1 + a_2 b_2 + a_3 b_3 \quad \text{Skalarprodukt in Koordinatenform}$$

Ist $\vec{a} \cdot \vec{b} = 0$, so stehen die Vektoren \vec{a} und \vec{b} **senkrecht aufeinander**.

Beispiele

$$\text{a) } \begin{pmatrix} 1 \\ 2 \\ -1 \end{pmatrix} \cdot \begin{pmatrix} -3 \\ 1 \\ 5 \end{pmatrix} = -3 + 2 - 5 = -6 \qquad \text{b) } \begin{pmatrix} 2 \\ 2 \\ -1 \end{pmatrix} \cdot \begin{pmatrix} 6 \\ -2 \\ 1 \end{pmatrix} = 12 - 4 - 1 = 7$$

$$\text{c) } \begin{pmatrix} -1 \\ 3 \\ 4 \end{pmatrix} \cdot \begin{pmatrix} -1 \\ 1 \\ -1 \end{pmatrix} = 1 + 3 - 4 = 0, \text{ d.h., die Vektoren } \begin{pmatrix} -1 \\ 3 \\ 4 \end{pmatrix} \text{ und } \begin{pmatrix} -1 \\ 1 \\ -1 \end{pmatrix} \text{ sind zueinander orthogonal.}$$

$$\text{d) Berechnung von } |\vec{a}| \text{ mithilfe des Skalarprodukts: } \vec{a} \cdot \vec{a} = (|\vec{a}|)^2$$

$$\vec{a} \cdot \vec{a} = \begin{pmatrix} 1 \\ 3 \\ -2 \end{pmatrix} \cdot \begin{pmatrix} 1 \\ 3 \\ -2 \end{pmatrix} = 1 \cdot 1 + 3 \cdot 3 + (-2) \cdot (-2) = 1 + 9 + 4 = 14 = (|\vec{a}|)^2$$

$$|\vec{a}| = \sqrt{14}$$

Mithilfe der Formel für den Betrag eines Vektors: $|\vec{a}| = (\sqrt{a_1^2 + a_2^2 + a_3^2})^2$:

$$\vec{a} = \left| \begin{pmatrix} 1 \\ 3 \\ -2 \end{pmatrix} \right| = \sqrt{1^2 + 3^2 + (-2)^2} = \sqrt{14}$$

e) Beispiel aus der linearen Algebra: Erlös (in GE) beim Verkauf von 10 ME E_1 und 20 ME E_2 zu einem Preis von 5 GE/ME bzw. 3,5 GE/ME.

$$\text{Preisvektor: } (5 \quad 3,5); \text{ Mengenvektor: } \begin{pmatrix} 10 \\ 20 \end{pmatrix}$$

$$\text{Erlös} = \text{Preis} \cdot \text{Menge} \quad \text{mit Vektoren: } E = (5 \quad 3,5) \cdot \begin{pmatrix} 10 \\ 20 \end{pmatrix} = 50 + 70 = 120$$

Beispiel

➔ Bestimmen Sie b_1 so, dass die Vektoren $\vec{a} = \begin{pmatrix} 4 \\ -3 \\ 1 \end{pmatrix}$ und $\vec{b} = \begin{pmatrix} b_1 \\ 2 \\ -2 \end{pmatrix}$ senkrecht aufeinander stehen.

Lösung

$$\vec{a} \cdot \vec{b} = \begin{pmatrix} 4 \\ -3 \\ 1 \end{pmatrix} \cdot \begin{pmatrix} b_1 \\ 2 \\ -2 \end{pmatrix} = 4b_1 - 6 - 2 = 4b_1 - 8 = 0 \qquad \text{Ergebnis: } b_1 = 2$$

Die Vektoren $\vec{a} = \begin{pmatrix} 4 \\ -3 \\ 1 \end{pmatrix}$ und $\vec{b} = \begin{pmatrix} 2 \\ 2 \\ -2 \end{pmatrix}$ stehen senkrecht aufeinander.

Aufgaben

1 Untersuchen Sie, ob die Vektoren \vec{a} und \vec{b} zueinander orthogonal sind.

a) $\vec{a} = \begin{pmatrix} 1 \\ 3 \\ -2 \end{pmatrix}; \vec{b} = \begin{pmatrix} 1 \\ -1 \\ -1 \end{pmatrix}$ b) $\vec{a} = \begin{pmatrix} 10 \\ -3 \\ -4 \end{pmatrix}; \vec{b} = \begin{pmatrix} 2 \\ 3 \\ 3 \end{pmatrix}$

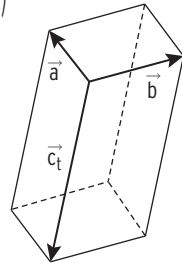
2 Bestimmen Sie einen Vektor \vec{n} , der senkrecht auf dem Vektor $\vec{a} = \begin{pmatrix} 2 \\ 5 \\ -3 \end{pmatrix}$ steht.

3 Die Vektoren $\vec{a} = \begin{pmatrix} 2 \\ 1 \\ 2 \end{pmatrix}$, $\vec{b} = \begin{pmatrix} -1 \\ 2 \\ 0 \end{pmatrix}$ und $\vec{c}_t = \begin{pmatrix} 4t \\ 2t \\ -5t \end{pmatrix}$ spannen

für jeden Wert von t mit $t \in \mathbb{R} \setminus \{0\}$ einen Körper auf.

Die Abbildung zeigt den Sachverhalt beispielhaft für einen Wert von t .

Zeigen Sie, dass die aufgespannten Körper Quader sind.



4 Gegeben sind die Punkte $A(3 | 3 | 5)$, $B(-1 | -1 | 1)$ und $C(2 | 2 | -1)$.

Zeigen Sie: $\vec{n} = \begin{pmatrix} 1 \\ -1 \\ 0 \end{pmatrix}$ steht senkrecht auf \overrightarrow{AB} und auf \overrightarrow{AC} .

Geben Sie einen weiteren Vektor an, der senkrecht auf \overrightarrow{AB} und auf \overrightarrow{AC} steht.

5 Gegeben sind die Punkte $A(1 | 3 | 3)$, $B(5 | 1 | -1)$ und $C(3 | 5 | -5)$.

Zeigen Sie: Das Dreieck ABC ist gleichschenkelig-rechtwinklig mit dem rechten Winkel im Punkt B .

6 Die Punkte $A(2 | 4 | 3)$, $B(4 | 6 | 4)$, $C(2 | 7 | 6)$ und $D(0 | 5 | 5)$ liegen in einer Ebene.

Untersuchen Sie, ob das Viereck $ABCD$ eine Raute ist.

Wenn ja, ist das Viereck $ABCD$ ein Quadrat?

7 Gegeben sind die Vektoren $\vec{a} = \begin{pmatrix} 3 \\ 1 \\ -4 \end{pmatrix}$, $\vec{b} = \begin{pmatrix} 5 \\ -7 \\ 2 \end{pmatrix}$ und $\vec{c} = \begin{pmatrix} 2 \\ 1 \\ 2 \end{pmatrix}$.

a) Zeigen Sie, dass \vec{a} orthogonal zu \vec{b} und nicht orthogonal zu \vec{c} ist.

b) Gegeben ist ein weiterer Vektor $\vec{d} = \begin{pmatrix} -4 \\ 4 \\ d \end{pmatrix}$ mit $d \in \mathbb{R}$. Zeigen Sie, dass es kein d gibt, sodass der Vektor \vec{d} orthogonal zu \vec{a} und auch orthogonal zu \vec{b} ist.

8 Gegeben sind die Punkte $A(-2 | -2)$, $B(1 | 2)$ und $C(1 | 4)$ sowie für eine reelle Zahl d der Punkt $D(d | 4)$.

a) Zeigen Sie, dass A , B und C Eckpunkte eines Dreiecks sind.

b) Das Dreieck ABD ist im Punkt B rechtwinklig. Ermitteln Sie den Wert von d .

9 Gegeben ist das Viereck $ABCD$ mit den Eckpunkten $A(0 | 0 | 0)$, $B(-3 | 1 | 4)$, $C(2 | -4 | 4)$ und $D(5 | -5 | 0)$.

Weisen Sie nach, dass das Viereck $ABCD$ ein Parallelogramm, aber kein Rechteck ist.

